



کد محصول
ES526



آخرین بروزرسانی
۳۱ بهمن ۱۴۰۳

سوالات استخدامی

جهد دانشگاهی

- ✓ اصل سوالات آزمون های استخدامی ادوار گذشته جهد دانشگاهی (مجری آزمون)
- ✓ نسخه رایگان شامل ۲۲۵ سوال (تعداد کمتر و تنها برخی دارای پاسخ)
- ✓ برای تهیه نسخه اصلی، با ۶۰۵ سوال به همراه پاسخنامه تشریحی، به سایت ایران عرضه مراجعه نمایید.



لینک های مفید آزمون استخدامی جهاد دانشگاهی

خرید این محصول	خرید درسنامه عمومی
سوالات استخدامی ۱۰ سال اخیر	خرید درسنامه مصاحبه
خرید سوالات مصاحبه	شبکه های اجتماعی ایران عرضه (فایل های رایگان + تخفیفات هفتگی + اخبار)
<p>آخرین بروزرسانی ها:</p> <p>۱۴۰۳/۱۱/۱۱ اضافه شدن فصل اول (سوالات آزمون فراگیر دوازدهم)</p>	
<p>(برای مشاهده هر بخش روی آن بزنید )</p>	

فهرست مطالب

❖ فصل اول: سوالات آزمون استخدامی دوازدهمین فراگیر دستگاه های اجرایی آذر ۱۴۰۳ با

پاسخنامه تشریحی

- ◀ تسلط بر مبانی اسلامی - انقلابی {صفحه ۶ - ۵ سوال}
- ◀ آشنایی با اسناد و قوانین بالادستی {صفحه ۷ - ۵ سوال}
- ◀ ادبیات فارسی {صفحه ۸ - ۵ سوال}
- ◀ زبان انگلیسی {صفحه ۸ - ۵ سوال}
- ◀ هوش و توانمندی های ذهنی {صفحه ۹ - ۵ سوال}
- ◀ فناوری اطلاعات {صفحه ۱۰ - ۵ سوال}

❖ فصل دوم: سوالات آزمون استخدامی سازمان تامین اجتماعی فروردین ۱۴۰۳

- ◀ فناوری اطلاعات مهارت های هفتگانه (ICDL) {صفحه ۱۲ - ۵ سوال}
- ◀ معارف اسلامی {صفحه ۱۲ - ۵ سوال}
- ◀ زبان و ادبیات فارسی {صفحه ۱۳ - ۵ سوال}
- ◀ ریاضی و آمار مقدماتی {صفحه ۱۴ - ۵ سوال}
- ◀ اطلاعات عمومی، دانش اجتماعی و حقوق اساسی {صفحه ۱۴ - ۵ سوال}
- ◀ زبان انگلیسی عمومی {صفحه ۱۵ - ۵ سوال}
- ◀ هوش و استعداد تحصیلی {صفحه ۱۶ - ۵ سوال}
- ◀ شناخت تامین اجتماعی {صفحه ۱۷ - ۵ سوال}

❖ فصل سوم: دهمین آزمون فراگیر دستگاه های اجرایی خرداد ۱۴۰۲

- ◀ معارف اسلامی {صفحه ۱۸ - ۵ سوال}
- ◀ زبان و ادبیات فارسی {صفحه ۱۸ - ۵ سوال}
- ◀ آشنایی با قوانین و مقررات اداری {صفحه ۱۹ - ۵ سوال}
- ◀ معلومات عمومی {صفحه ۲۰ - ۵ سوال}

◀ زبان انگلیسی {صفحه ۲۰ - ۵ سوال}

◀ هوش و توانمندی عمومی {صفحه ۲۱ - ۵ سوال}

◀ فناوری اطلاعات {صفحه ۲۲ - ۵ سوال}

◀ معارف اسلامی (ویژه مسلمانان اهل تسنن) {صفحه ۲۳ - ۵ سوال}

❖ فصل چهارم : سوالات آزمون استخدامی وزارت بهداشت ۱۴۰۲ با پاسخنامه تشریحی

◀ فناوری اطلاعات مهارت های هفتگانه (ICDL) {صفحه ۲۵ - ۵ سوال}

◀ زبان و ادبیات فارسی {صفحه ۲۵ - ۵ سوال}

◀ معارف اسلامی {صفحه ۲۶ - ۵ سوال}

◀ عمومی - زبان انگلیسی {صفحه ۲۷ - ۵ سوال}

◀ اطلاعات عمومی، دانش اجتماعی و حقوق اساسی {صفحه ۲۸ - ۵ سوال}

◀ هوش و توانمندی های ذهنی {صفحه ۲۹ - ۵ سوال}

❖ فصل پنجم: سوالات آزمون استخدامی قوه قضاییه سال ۱۴۰۰ با پاسخنامه تشریحی

◀ معارف اسلامی {صفحه ۳۱ - ۵ سوال}

◀ زبان انگلیسی - عمومی {صفحه ۳۱ - ۵ سوال}

◀ اطلاعات عمومی، دانش اجتماعی، هوش و توانمندی های عمومی {صفحه ۳۲ - ۵ سوال}

❖ فصل ششم: سوالات آزمون استخدامی ششمین فراگیر دستگاه های اجرایی دی ۱۳۹۷ مشترک با

آموزش و پرورش و بانک ملی با پاسخنامه تشریحی

◀ فناوری اطلاعات و مهارت های هفتگانه I.C.D.L {صفحه ۳۳ - ۵ سوال}

◀ ریاضی و آمار مقدماتی {صفحه ۳۳ - ۵ سوال}

◀ زبان و ادبیات فارسی و آیین نگارش {صفحه ۳۴ - ۵ سوال}

◀ معارف اسلامی {صفحه ۳۵ - ۵ سوال}

◀ زبان انگلیسی - عمومی {صفحه ۳۶ - ۵ سوال}

◀ اطلاعات عمومی، دانش اجتماعی و قانون اساسی {صفحه ۳۷ - ۵ سوال}

◀ هوش و استعداد تحصیلی و شغلی {صفحه ۳۸ - ۵ سوال}

❖ فصل هفتم: سوالات آزمون استخدامی یازدهمین فراگیر دستگاه های اجرایی دی ۱۴۰۲ با پاسخنامه

تشریحی

◀ معارف اسلامی {صفحه ۳۹ - ۵ سوال}

◀ زبان و ادبیات فارسی {صفحه ۳۹ - ۵ سوال}

◀ قوانین و مقررات اداری {صفحه ۴۰ - ۵ سوال}

◀ معلومات عمومی، دانش اجتماعی و حقوق اساسی {صفحه ۴۱ - ۵ سوال}

◀ زبان انگلیسی {صفحه ۴۲ - ۵ سوال}

◀ هوشو توانمندی های عمومی {صفحه ۴۳ - ۵ سوال}

◀ فناوری اطلاعات و مهارت های هفتگانه I.C.D.L {صفحه ۴۴ - ۵ سوال}



در هر بخش، تنها ۱ سوال ابتدایی دارای پاسخنامه تشریحی می باشد. در صورت تمایل به دریافت سوالات بیشتر با جواب تشریحی می توانید این محصول را از سایت ایران عرضه خریداری نمایید.

خرید محصول

❖ فصل اول: سوالات حیطه عمومی دوازدهمین آزمون استخدامی فراگیر دستگاه

اجرای آذر ۱۴۰۳ با پاسخنامه تشریحی

◀ تسلط بر مبانی اسلامی - انقلابی

۱- مسئولیت اصلی رسالت انبیاء بعد از بهشت چیست؟

(۱) با حدیث گفتن می کوشند تا در متن زندگی انسان ها رستاخیز و تحول ایجاد نمایند

(۲) دین را به گوش مردم می رسانند.

(۳) مراکز تزکیه و تربیت اسلامی تاسیس می نمایند.

(۴) وحی را ثبت و ضبط کنند.

❑ پاسخ سایت ایران عرضه: گزینه ۱ ➡ مسئولیت اصلی رسالت انبیاء پس از خروج انسان از بهشت و ورود به زندگی دنیوی،

ایجاد تحول و رستاخیز در زندگی فردی و اجتماعی انسان ها است. انبیاء مأمور بودند که با بیان حقایق الهی و ارائه راهبردهای عملی، مسیر هدایت و کمال را برای بشر فراهم کنند. این تحول شامل:

۱. هدایت فکری و عقیدتی: آموزش اصول توحیدی و تبیین فلسفه خلقت.

۲. تحول در رفتار و اخلاق: اصلاح رفتارهای اجتماعی و فردی بر اساس آموزه های الهی.

۳. ایجاد جامعه ای عادلانه: تأسیس نظام های اجتماعی و حکومتی بر مبنای عدالت و تقوا.

انبیاء با استفاده از کلام (بیان آیات و احادیث)، اهداف متعالی دین را به متن زندگی انسان ها وارد کرده و جوامع را متحول می کردند.

۲- قانون (دینی) که پیامبران برای دگرگونی جامعه می آورند چه ویژگی هایی دارد؟ (منبع ایران عرضه)

(۱) الهی است چون خدا انسان را خلق کرده است و شجاعت و قضاوت را بر او فرستاده تا راه بهتر زندگی کردن را دریابد.

(۲) فطری است یعنی خود انسان ها عمل به آن قوانین را می خواهند.

(۳) سختگیرانه است زیرا انشان ها باید با سختی رشد کنند.

(۴) موارد ۱ و ۲

۳- کدام عبارت درست است؟

(۱) انبیاء ترجیحاً گفتمان دین را بیان می کنند و از اول به انسان ها، انتهای مسیرشان را نشان نمی دهند.

۲) انبیاء شعارهای تیزی ندارند که همه بتوانند با آنها ارتباط بگیرند.

۳) انبیاء سخن آخر خود را در آغاز می گویند و هر کس در ابتدای ایمان، جهت و هدف را از روی بصیرت می تواند بفهمد.

۴) دین حقیقی درست است. اما زیبا و جذاب نیست؛ لذا هنر انبیاء این است که دین را زیبا کنند و به جامعه عرضه کنند.

۴- محوری ترین هدف بعثت انبیاء کدام مورد می باشد؟

۱) استکبار ستیزی ۲) ایجاد تحول در جامعه

۳) ایجاد عدالت در جامعه ۴) رساندن انسان ها به توحید

۵- جبهه ای که حول رسول الله (ص) تشکیل می شود برای اینکه در جریان های فکری و مدنی ماندگار و باثبات باشد چه

کاری باید انجام دهد؟ (اصلی ترین اقدام)

۱) تبیین دین را برای مردم بدانند. ۲) عدالت را در جامعه نهادینه نمایند.

۳) احساس مسئولیت در برابر مردم ۴) دنبال تبیین دین برای مردم باشند.

آشنایی با اسناد و قوانین بالادستی

۶- سیاست های کلی برنامه هفتم با اولویت اصلی تعیین شده است.

۱) خودکفایی در عرصه کشاورزی

۲) پیشرفت اقتصادی توأم با عدالت

۳) پیشرفت علمی

۴) اصلاح ساختارها

☑ پاسخ سایت ایران عرضه: گزینه ۲ ➡ بر اساس ابلاغیه مقام معظم رهبری در تاریخ ۲۰ شهریور ۱۴۰۱، سیاست های کلی

برنامه هفتم توسعه با اولویت اصلی "پیشرفت اقتصادی توأم با عدالت" تعیین شده است.

در این ابلاغیه، هدف کلی برنامه هفتم دستیابی به نرخ رشد اقتصادی متوسط ۸ درصد در طول برنامه با تأکید بر افزایش

بهره وری کل عوامل تولید (منابع انسانی، سرمایه، فناوری و مدیریت) مشخص شده است.

۷- طبق سیاست های کلی برنامه هفتم توسعه نرخ رشد اقتصادی متوسط در طول برنامه درصد تعیین شده است.

۱) ۵ درصد ۲) ۶ درصد ۳) ۷ درصد ۴) ۸ درصد

۸- طبق سیاست های کلی برنامه هفتم، افزایش نرخ باروری و موالید به حداقل طی سال تعیین شده است.

۱) ۲/۵ - ۴ سال ۲) ۲ - ۳ سال

۳) ۲/۵ - ۵ سال ۴) ۲ - ۵ سال

۹- هماهنگ نمودن فعالیت های سیاسی، اقتصادی، اجتماعی، فرهنگی و اقتصادی در ارتباط با تدابیر کلی دفاعی و امنیتی از

وظایف کدام است؟

۱) ستاد فرماندهی کل نیروهای مسلح ۲) وزارت دفاع و وزارت کشور

(۴) شورای هماهنگی سران قوا

(۳) شورای عالی امنیت ملی

۱۰- کدام مورد صحیح نیست؟

(۱) تفسیر قانون اساسی برعهده شورای نگهبان است.

(۲) مجلس شورای اسلامی حق تحقیق و تفحص در تمام امور کشور را دارد.

(۳) تفسیر قوانین عادی برعهده مجلس شورای اسلامی است.

(۴) دیوان محاسبات کشور زیر قوه قضاییه است.

ادبیات فارسی

۱۱- (یک سو) در بیت زیر به چه معناست؟

"به هستیش باید که خستو شوی / ز گفتار بیکار یکسو شوی"

(۱) برکنار (۲) شیوا (۳) متفق القول (۴) یک صدا

پاسخ سایت ایران عرضه: گزینه ۱ واژه «یکسو» به معنای برکنار یا دور شدن است. شاعر در این بیت توصیه می‌کند که:

۱. خستو شدن به هستی: باید به وجود و حقیقت چیزی اعتراف کرد.

۲. دور شدن از گفتار بیکار: از سخنان بیهوده و بی‌فایده برکنار شد و به اصل و حقیقت توجه کرد.

این تعبیر نشان‌دهنده دوری گزیدن از امور بی‌اهمیت و تمرکز بر حقیقت و معنا است.

۱۲- ژاژ خواهی کنایه از چیست؟

(۱) غیبت (۲) بیهودگی (۳) فاش کردن اسرار (۴) راست گویی

۱۳- قالب شعری ابیات زیر چیست؟

"منشین با بدان که صبحت بد / گرچه پاکی ، تو را پلید کند

آفتابی به این بزرگی را / پاره ای ابر ناپدید می کند "

(۱) دوبیتی (۲) رباعی (۳) چهارپاره (۴) قطعه

۱۴- موضوع کتب سبک شناسی ملک الشعرای بهار کدام گزینه است؟

(۱) تطور نثر فارسی (۲) وزن شعری

(۳) بررسی سبک استان های فارسی (۴) تحول شعر فارسی

۱۵- "سرو غاتفر" نماد کدام صفت است؟

(۱) پایداری (۲) آزادگی (۳) تنهایی (۴) راستی و درستی

زبان انگلیسی

16- He was to the hospital with acute appendicitis.

- 1) crashed 2) rushed 3) pressurized 4) activated

۴۱- او با آماس آپاندیس حاد به بیمارستان

(۱) خُرد کرد (۲) با عجله رفت

(۳) تحت فشار قرار گرفت (۴) فعال شد

✓ پاسخ سایت ایران عرضه: گزینه ۲ ← (او به خاطر بیماری حاد آماس آپاندیس، با عجله به بیمارستان رفت)

17- Your latest report. I'm, is not up to your usual standard.

- 1) happy to say 2) frightened
3) afraid 4) jealous and envious

18- Are you going to your house in London while you are aboard? (source: iran arze website)

- 1) let 2) hire 3) sale 4) dispose

19- The professor's remarks caused him great embarrassment and he deeply regretted not having prepared his lecture.

- 1) complicated 2) wise 3) resurgent 4) malignant

20- The deadline for our assignment has been..... Now we don't know when we'll submit it or if it will be submitted at all.

- 1) theoretical 2) identical 3) indefinite 4) infinite

هوش و توانمندی های ذهنی

با توجه به متن به سه سوال زیر پاسخ دهید.

پنج نفر اروپایی با ملیت ها و زبان های متفاوت در یک کنفرانس در ژنو شرکت کرده اند. وضعیت این افراد از نظر زبان به شرح زیر است.

- آقای x اسپانیایی و ایتالیایی صحبت می کند.

- آقای y اسپانیایی و انگلیسی را می فهمد

- آقای z انگلیسی و ایتالیایی صحبت می کند.

- آقای a فرانسه را خوب صحبت میکند و اسپانیایی را خوب می فهمد.

- آقای b ایتالیایی است و فرانسه را نیز صحبت می کند.

- تبعه هر کشور زبان آن کشور را هم می فهمد و هم صحبت می کند .

- کسانی که زبانی را صحبت میکنند آن را نیز می فهمد ولی کسانی که زبانی را می فهمند الزاماً آن را صحبت نمی کنند

۲۱- کدام یک از افراد زیر به عنوان مترجم آقای z و آقای a در گفتگوها می تواند عمل کند؟

(۱) فقط آقای b (۲) فقط آقای x (۳) آقای x و آقای b (۴) آقای y و آقای b

✖ پاسخ سایت ایران عرضه: گزینه ۳ ➡ گزینه ۳ صحیح است، زیرا این دو نفر می‌توانند زبان‌های مورد نیاز را ترجمه کنند. تحلیل گزینه ها:

فقط آقای B (نادرست): آقای B مناسب است، اما گزینه فقط او را انتخاب کرده که نادرست است.

فقط آقای X (نادرست): آقای X می‌تواند بخشی از ترجمه را انجام دهد، اما نه همه.

آقای X و آقای B (صحیح): هر دو نفر می‌توانند به عنوان مترجم عمل کنند؛ X برای اسپانیایی و ایتالیایی، و B برای ایتالیایی و فرانسوی

آقای Y و آقای B (نادرست): آقای Y مناسب نیست، زیرا فرانسوی بلد نیست.

۲۲- کدام افراد میتوانند بدون مترجم با هم گفتگو کنند؟

(۱) y و x (۲) x و z (۳) y و b (۴) x و a

۲۳- دو زبان که در بین اعضاء این کنفرانس متداول تر است و افراد بیشتری با آن زبانها تکلم میکنند. یا آن را میفهمند. کدامند؟ (تالیف سایت ایران عرضه)

(۱) انگلیسی و اسپانیایی (۲) انگلیسی و ایتالیایی

(۳) اسپانیایی و ایتالیایی (۴) فرانسه و ایتالیایی

۲۴- خلبان های با تجربه معمولا نسبت به خلبان های مبتدی در یادگیری پرواز با هواپیماهای فوق سبک مشکل بیشتری دارند. زیرا انها با هواپیما ها سنگین تر عادت دارند. خلبان با تجربه هنگام پرواز با هواپیماهای فوق سبک مسائل مربوط به باد را کمتر رعایت میکنند. از جملات فوق استنباط می شود، هواپیماهای سنگین تر:

(۱) با سختی بیشتری قابل هدایت هستند (۲) در باد راحت تر قابل هدایت هستند

(۳) در بین خلبانان پر طرفداری نیستند (۴) ایمنی کمتری دارند

۲۵- با چهار کلمه A, B, C, D چند کلمه سه حرفی میتوان ساخت به طوری که A و B کنار هم باشند؟

(۱) ۲۴ (۲) ۱۲ (۳) ۸ (۴) ۳

◀ فناوری اطلاعات

۲۶- در نرم افزار Access فیلدی که مقدار آن بین تمام رکوردهای جدول یکتاست، گویند.

(۱) Key Field (۲) Foreign Key (۳) Memo (۴) Index Field

✖ پاسخ سایت ایران عرضه: گزینه ۱ ➡ در نرم افزار Access، فیلدی که مقدار آن بین تمام رکوردهای جدول یکتا است، به آن

Key Field کلید اصلی یا Primary Key می‌گویند که از جمله ویژگی های آن می توان به موارد زیر اشاره کرد:

یکتایی: (Unique) مقدار این فیلد در تمام رکوردهای جدول یکتا و غیرتکراری است.

عدم پذیرش مقدار: Null کلید اصلی نمی‌تواند مقدار Null داشته باشد.

شناسایی یکتای رکوردها: کلید اصلی برای شناسایی یکتای هر رکورد در جدول استفاده می‌شود.

۲۷- از کدام ابزار Word برای کپی قالب بندی کاراکتر یا پاراگراف مورد نظر به کاراکتر یا پاراگراف دیگر استفاده می‌شود؟

Format Painter (۲)

Copy (۱)

Replace (۴)

Clip Board (۳)

۲۸- حافظه ای که بین CPU و RAM تعبیه و از آن برای بالا بردن سرعت دسترسی به داده ها استفاده می شود، چیست؟

EPROM (۴)

HARD (۳)

CACHE (۲)

ROM (۱)

۲۹- کامپیوترهای شخصی جزو کدام یک از دسته‌بندی کامپیوترهای زیر می‌باشند؟ (طراحی توسط ایران عرضه)

Micro Computer (۲)

Mainframe (۱)

Super Computer (۴)

Mini Computer (۳)

۳۰- نام پیش فرض فایل‌های Excel کدام گزینه می باشد؟

Work sheet (۴)

Word book (۳)

Book (۲)

Document (۱)



❖ فصل دوم: سوالات حیطه عمومی سازمان تامین اجتماعی فروردین ۱۴۰۳

◀ فناوری اطلاعات مهارت های هفت گانه (ICDL)

۱- کدام یک از ترکیب کلیدهای زیر، اولین کلمه بعد از مکان نما را در نرم افزار word پاک می کند؟

Ctrl + Shift + Back Space (۲)

Ctrl + Shift + Del (۱)

Ctrl + Back Space (۴)

Ctrl + Del (۳)

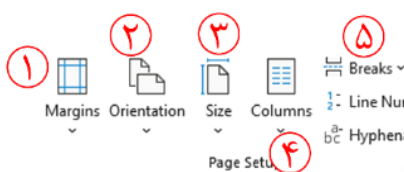
❑ پاسخ سایت ایران عرضه: گزینه ۳ ➡ در اکثر نرم افزار های واژه پرداز، کلید Backspace برای پاک کردن قبل از مکان نما و کلید Delete برای پاک کردن مواردی که بعد از مکان نما هستند به کار میرود، همچنین برای پیمایش کلمه به کلمه در نرم افزار ورد میتوان از کلید Ctrl استفاده کرد. لذا برای پاک کردن کلمه ای که بعد از مکان نما قرار دارد از کلید ترکیبی Ctrl + DEL استفاده میکنیم.

۲- ترکیب کلیدهای Ctrl + y یا Redo چه عملی را در نرم افزار word انجام می دهد؟

(۱) باز گرداندن آخرین عملیات لغو شده (۲) لغو آخرین عملیات انجام شده

(۳) Paste کردن اطلاعات کپی گرفته شده (۴) کپی گرفتن از بخش انتخاب شده متن

۳- در نرم افزار word، برای تنظیم حاشیه های یک صفحه، از کدام بخش رو به رو استفاده میشود؟



(۲) بخش ۳

(۱) بخش ۱

(۴) بخش ۶

(۳) بخش ۴

۴- گزینه Save As در منوی نرم افزار word چه کاری انجام می دهد؟ (منبع ایران عرضه)

(۱) ذخیره اتوماتیک فایل

(۲) ذخیره کردن فایلی که تاکنون روی حافظه سیستم ذخیره نشده است

(۳) ذخیره کردن فایلی که باز است با نام دیگر روی حافظه سیستم

(۴) باز کردن فایل مورد نظر در word

۵- برای انتخاب متوالی آیکن ها در ویندوز، هنگام کلیک کردن چه کلیدی را پایین نگه میداریم؟

Tab (۴)

Shift (۳)

Ctrl (۲)

Alt (۱)

◀ معارف اسلامی

۶- بر اساس نظر حضرت آیت الله خامنه ای کدام گزینه صحیح نمی باشد؟

(۱) هدف ها و آرمان ها در تشکیل شخصیت آدمی موثر است

(۲) نفس انسان یکی از عوامل مهم اثر گذار بر رفتار انسان است

۳) جهان بینی هر انسانی در تشکیل شخصیت او تاثیر چندانی ندارد

۴) فردگرایی یکی از عوامل تعارض و تفرقه در جامعه می باشد

❑ پاسخ سایت ایران عرضه: گزینه ۳ ➡ با توجه به آنچه در اندیشه آیت الله خامنه ای درباره سرشت انسان مطرح شده، ایشان معتقد است جهان بینی نیز در تشکیل شخصیت انسان مؤثر است و هر فرد بر مبنای جهان بینی ویژه اش، رفتار مشخصی را از خود نشان میدهد.

۷- حاکم واقعی در جامعه اسلامی می باشد .

۱) رهبر اسلامی ۲) خدا ۳) امامان ۴) پیامبران

۸- اساسی ترین مسئله دین کدام گزینه زیر میباشد؟ ایران عرضه

۱) توحید ۲) معاد ۳) ولایت ۴) عدالت

۹- خدای متعال در قرآن کریم خطاب به کدام پیامبر فرمودند تو را برای مردم قرار داده ایم؟

۱) حضرت محمد (ص) ۲) حضرت موسی

۳) حضرت نوح ۴) حضرت ابراهیم

۱۰- این نکته که "اگر حاکم به فکر کام جویی، قدرت طلبی و حفظ مقام باشد ضمانت لازم برای سلامت نظام باقی نخواهد ماند" به کدام یک از شرایط رهبری جامعه اشاره دارد؟

۱) عالم بودن ۲) عادل بودن ۳) فقیه بودن ۴) مجتهد بودن

➤ زبان و ادبیات فارسی

۱۱- در این بیت چه صنعت بدیعی دیده می شود؟

«شود کوه آهن چو دریای آب اگر بشنود نام افراسیاب»

۱) اغراق ۲) ایهام ۳) التفات ۴) تلمیح

❑ پاسخ سایت ایران عرضه: گزینه ۱ ➡ در این بیت به این اشاره شده است که کوهی که از جنس آهن میباشد با شنیدن نام افراسیاب ذوب شده و به سان دریایی از آب که نشان از روان بودن آن دارد خواهد شد. این آب شدن در پی شنیدن نام یک پهلوان اغراق است در تاثیر ابهت و بزرگی یک فرد.

۱۲- شاهنامه فردوسی در کدام قالب شعری سروده شده است؟

۱) قطعه ۲) قصیده ۳) ترکیب بند ۴) مثنوی

۱۳- کدام یک وزن مثنوی معنوی است؟

۱) فعولن فعولن فعولن فعل ۲) مستفعّلن فاعلن مستفعّلن فاعلن

۳) فاعلاتن فاعلاتن فاعلن ۴) فاعلاتن مفاعلن فاعلن

۱۴- همه آثار زیر متعلق به جامی هستند، به جز:

۱) رساله دلگشا ۲) نفحات الانس ۳) تحفه الاحرار ۴) بهارستان

۱۵- در کدام گزینه «موضوع بی اعتباری دنیا» مشهود است؟

- ۱) ده روز مهر گردون افسانه است و افسون
۲) این قافله بر قافله پویان سوی آن مرحله
۳) نومید شو ز هر که توانی و هر چه هست
۴) کی رسد آشفتگی از روزگار بو العجب
- نیکی به جای یاران فرصت شمار یارا
چون بر نمی گردد سرت چون دل نمی جوشد تو را
که امیدهای باطل ما را شمار نیست
آن چه از چشم بدین آشفته کاران می رسد

ریاضی و آمار مقدماتی

۱۶- اگر $A = \{1, 3, 4, 7\}$ و $B = \{3, 7, 9\}$ باشد آنگاه حاصل $(A - B) \cup (B - A)$ عبارت است از:

- ۱) $\{1, 3, 9\}$ ۲) $\{1, 4, 7\}$ ۳) $\{3, 4, 7\}$ ۴) $\{1, 4, 9\}$

پاسخ سایت ایران عرضه: گزینه ۴ ابتدا دو تفریق داده شده برای مجموعه های A و B را انجام می دهیم و پس از آن اجتماع دو مجموعه جدید به دست آمده را محاسبه میکنیم. چنانچه میدانیم در تفریق دو مجموعه تنها کافی است عضو های مشترک را از مجموعه اول حذف کنیم، لذا خواهیم داشت:

$$\begin{cases} A - B = \{1, 4\} \\ B - A = \{9\} \end{cases} \rightarrow (A - B) \cup (B - A) = \{1, 4\} \cup \{9\} = \{1, 4, 9\}$$

مجموعه به دست آمده را میتوان در گزینه ۴ مشاهده کرد

۱۷- اگر $x = 1 + \sqrt{2}$ و $y = -1 + \sqrt{2}$ باشد، حاصل عبارت $\frac{xy^3 + x^3y - 2x^2y^2}{x^3y - xy^3}$ کدام است؟

- ۱) $-2\sqrt{2}$ ۲) $\frac{\sqrt{2}}{2}$ ۳) $-\frac{\sqrt{2}}{2}$ ۴) $2\sqrt{2}$

۱۸- در تجزیه ی عبارت $x^2 - (x^2 - 20)^2$ کدام عامل ضرب زیر وجود ندارد؟ (متعلق به سایت ایران عرضه)

- ۱) $x - 5$ ۲) $x + 4$ ۳) $x - 1$ ۴) $x + 5$

۱۹- حاصل عبارت گویای $\frac{2x}{2x+1} + \frac{2}{2x-1} - \frac{2x+3}{4x^2-1}$ کدام است؟

- ۱) -1 ۲) -2 ۳) 1 ۴) 2

۲۰- اگر $f(x) = \sqrt{x^2 - 3}$ آن گاه $f(x) = \sqrt{x^2 - 3}$ برابر است با:

- ۱) $1 + \sqrt{5}$ ۲) $\sqrt{15} - 1$ ۳) $1 - \sqrt{15}$ ۴) $1 - 3\sqrt{5}$

اطلاعات عمومی، دانش اجتماعی و حقوق اساسی

۲۱- طبق اصل قانون اساسی جمهوری اسلامی ایران:

«برخوداری از تأمین اجتماعی از نظر بازنشستگی، بیکاری، پیری، از کار افتادگی، بی سرپرستی، در راه ماندگی، حوادث و سوانح، نیاز به خدمات بهداشتی درمانی و مراقبت های پزشکی به صورت بیمه و غیره حقی است همگانی»

(۴) اصل ۳۲

(۳) اصل ۲۷

(۲) اصل ۶۴

(۱) اصل ۲۹

✓ پاسخ سایت ایران عرضه: گزینه ۱ ← چنانچه در اصل ۲۹ از قانون اساسی جمهوری اسلامی آمده است داریم:

«برخوردار از تأمین اجتماعی از نظر بازنشستگی، بیکاری، پیری، از کارافتادگی، بی سرپرستی، در راه ماندگی، حوادث و سوانح، نیاز به خدمات بهداشتی درمانی و مراقبتهای پزشکی به صورت بیمه و غیره، حق است همگانی. دولت موظف است طبق قوانین از محل درآمدهای عمومی و درآمدهای حاصل از مشارکت مردم، خدمات و حمایت های مالی فوق را برای یک یک افراد کشور تأمین کند.»

۲۲- شناخت و آگاهی هر فرد نسبت به جهان هستی، چه نام دارد؟

(۱) ایدئولوژی (۲) اصول عقاید (۳) جهان بینی (۴) علم الاشیاء

۲۳- کوچک ترین استان ایران از لحاظ وسعت کدام است؟

(۱) البرز (۲) قزوین (۳) قم (۴) کهگیلویه و بویر احمد

۲۴- سوسیالیسم یعنی چه؟ (تالیف سایت ایران عرضه)

(۱) برابری اقشار مختلف جامعه در سود (۲) مالکیت مردم بر دارایی
(۳) اعتقاد به اصالت امور دنیوی (۴) اعتقاد به لزوم آداب و رسوم

۲۵- اعطای نشان دولتی به عهده کیست؟

(۱) مقام معظم رهبری (۲) رئیس جمهور
(۳) مجلس شورای اسلامی (۴) شورای نگهبان

◀ زبان انگلیسی عمومی

Vocabulary

Choose the word or phrase) 1) ,) 2) ,) 3) or) 4) that best completes the sentence

لغت

از بین گزینه های (۱)، (۲)، (۳) و (۴) گزینه مناسب را انتخاب کنید که هر جمله را به بهترین شکل تکمیل می کند.

26- I don't know how we are going to the expected surge of immigrants into the country.

1) run throught 2) put out 3) cope white 4) take down

۶۱- من نمی دانم چطور می خواهیم با هجوم موج پیش بینی شده مهاجران به کشور
(۱) عبور کنیم (۲) مرخص کنیم (۳) مقابله کنیم (۴) ثبت کنیم

✓ پاسخ سایت ایران عرضه: گزینه ۳ ← (معلوم نیست که ما چطور می خواهیم با هجوم مهاجران مقابله کنیم و از ورود

گروهی آنها به کشور جلوگیری کنیم)

27- (source: iran arze website) In Ethiopia, primitive farming practices of natural vegetation have transformed much of the country's highlands bare landscapes, but all destroyed erosion.

- 1) into / by 2) above / of 3) for / with 4) in / under

28- We have relatively gold and uranium on Earth only because many supernova explosions had occurred just before the solar system formed.

- 1) feeble 2) hinder 3) pedestrian 4) abundant

29- If you realize mid0 climb that your rock climbing rope is frayed, you might be in) iranarze.ir)

- 1) neck levs 2) peril 3) transparent 4) vandal

30- Her voice had become from shouting. Her last words were almost Inaudible.

- 1) hoarse 2) flexible 3) duplicate 4) comprehensive

◀ هوش و استعداد شغلی

۳۱- در یک مستطیل همواره:

(۱) دو ضلع مجاور با هم مساوی اند (۲) دو ضلع مجاور بر هم عمودند

(۳) قطرها بر هم عمودند (۴) قطرها با هم زاویه ۴۵ درجه می سازند

☑ پاسخ سایت ایران عرضه: گزینه ۲ ➡ مستطیل یکی از اشکال هندسی است که بر اساس چند قاعده ساده ایجاد میشود.

مستطیل یک چهار ضلعی است که اضلاع روبرو با هم موازی و اضلاع مجاور بر هم عمود هستند. در مستطیل تنها اضلاع روبرو از نظر اندازه با هم برابر هستند. در صورتی که اضلاع مجاور نیز باهم برابر باشند، نگاه هر چهار ضلع با هم مساوی بوده و تشکیل مربع میدهند. در صورتی که قطر ها بر هم عمود باشند شکل موجود مجدد یک مربع میباشد. زاویه میان قطر های یک مستطیل نیز با توجه به اندازه اضلاع میتواند متفاوت باشد و نمیتوان به صورت دقیق در ارتباط با آنها چیزی بیان کرد.

۳۲- ۵ به $2\frac{3}{4}$ مانند ۲۰ است به:

- (۱) $8\frac{3}{4}$ (۲) 11 (۳) $13\frac{3}{4}$ (۴) 15

۳۳- در یک کلاس دو سوم دانشجویان انگلیسی می دانند، دو سوم همین کلاس فرانسه می دانند، علی دانشجوی این کلاس

است، او

(۱) قطعاً انگلیسی و فرانسه را با هم نمی داند. (۲) ممکن است انگلیسی و فرانسه را با هم بداند.

(۳) حتماً فرانسه می داند. (۴) حتماً انگلیسی می داند.

۳۴- قطاری ۲۰ متر را در $\frac{1}{5}$ ثانیه طی میکند، با همین سرعت چند متر را در ۳ ثانیه طی می کند؟

- (۱) ۲۰۰ (۲) ۲۵۰ (۳) ۳۰۰ (۴) ۳۵۰

۳۵- رابطه مقابل را کدام یک از گزینه ها تکمیل می کند؟ نسبت «زمان» به «جوان» مثل نسبت ۵۳۳۲ است به (طراحی توسط ایران عرضه)

(۱) ۲۵۲۳ (۲) ۳۲۵۲ (۳) ۳۱۳۲ (۴) ۳۲۲۵

◀ شناخت تأمین اجتماعی

۳۶- کدام جمله صحیح است؟

(۱) سازمان تامین اجتماعی بر اساس قانون یک نهاد عمومی دولتی است که منابع مالی آن از محل حق بیمه ها با مشارکت کارفرما و بیمه شده تامین می گردد.

(۲) سازمان تامین اجتماعی متکی به دولت نیست ولی قابلیت ادغام با دیگر سازمان های حمایتی دولتی یا غیر دولتی را دارد.

(۳) سازمان تامین اجتماعی بر اساس قانون یک نهاد عمومی غیر دولتی است که عمده منابع مالی آن از محل حق بیمه ها با مشارکت کارفرما و بیمه شده تامین می گردد.

(۴) تکیه گاه اصلی سازمان مشارکت دو جانبه کارفرمایان و بیمه شدگان می باشند.

❑ پاسخ سایت ایران عرضه: گزینه ۳ ➡ سازمان تامین اجتماعی ایران یک سازمان بیمه گر اجتماعی است که پوشش دهنده کارگران حقوق بگیر و مزدی (به صورت اجباری) و صاحبان حرف و مشاغل آزاد (به صورت اختیاری) را در بر میگیرد. سازمان تامین اجتماعی براساس قانون، یک نهاد عمومی غیر دولتی است که عمده منابع مالی آن از محل حق بیمه ها با مشارکت کارفرما و بیمه شده تامین میگردد و متکی به منابع دولتی نیست و به همین دلیل سرمایه و دارایی های آن متعلق به افراد تحت پوشش در نسل های متوالی است و قابل ادغام با هیچ یک از سازمان ها و موسسه های دولتی یا غیر دولتی نمی باشد. تکیه گاه اصلی این سازمان مشارکت سه جانبه کارفرمایان، بیمه شدگان و دولت در عرصه های مختلف سیاست گذاری و تصمیم گیری های کلان و تامین مالی است.

۳۷- کدام قانون تنظیم کننده روابط کار و تضمین کننده حقوق کارفرما و کارگر است؟

(۱) قانون کار (۲) قانون تامین اجتماعی (۳) قانون تجارت (۴) قانون بیمه بیکاری

۳۸- بزرگترین نماینده بیمه کشور می باشد. (تهیه شده توسط ایران عرضه)

(۱) صندوق تامین اجتماعی نیروهای مسلح (۲) صندوق بیمه اجتماعی روستائیان و عشایر

(۳) صندوق بازنشستگی کشور (۴) صندوق تامین اجتماعی

۳۹- قانون بازنشستگی پیش از موعد در چه سالی به تصویب رسیده است؟

(۱) ۱۳۶۵ (۲) ۱۳۶۶ (۳) ۱۳۶۷ (۴) ۱۳۶۸

۴۰- هیئت امنای سازمان تامین اجتماعی چند نفر بوده و چند نفر از آنها با پیشنهاد وزیر تعاون، کار و رفاه اجتماعی و تصویب شورای عالی رفاه تامین اجتماعی تعیین می شوند؟

(۱) ۹ نفر ۶ نفر (۲) ۷ نفر ۵ نفر (۳) ۱۱ نفر ۷ نفر (۴) ۹ نفر ۵ نفر

❖ فصل سوم: دهمین آزمون فراگیر دستگاه های اجرایی خرداد ۱۴۰۲

◀ معارف اسلامی

۱- هدف نهایی آفرینش انسان از دیدگاه آیات قرآن چیست؟

- (۱) پرستش و عبودیت
(۲) تدبیر و تامل
(۳) خدمت و امداد
(۴) مجاهده

❑ پاسخ سایت ایران عرضه: گزینه ۱ ➡ بر اساس آیه ۵۲ سوره ذاریات که میفرماید: «وَمَا خَلَقْتُ الْجِنَّ وَالْإِنْسَ إِلَّا لِيَعْبُدُونِ»،

خداوند انسان و جن را جز برای پرستش و عبادت وی نیافریده است.

۲- رابطه ایمان و معرفت از دیدگاه قرآن چگونه است؟

- (۱) معرفت مبتنی بر ایمان است
(۲) ایمان مبتنی بر معرفت است
(۳) معرفت لازمه ایمان است
(۴) ایمان لازمه معرفت است

۳- ویژگی اصلی خداوند در تمام ادیان چیست؟

- (۱) یکتا بودن
(۲) قداست ذاتی
(۳) مشترک بودن نام خداوند
(۴) قادر بودن

۴- برهان علیّ در اثبات وجود خدا از چه مسیری می گذرد؟

- (۱) بی نهایت بودن جهان
(۲) علّیت خدا
(۳) خالقیت خدا
(۴) معلولیت جهان

۵- برهان نظم چگونه برهانی است؟ (منبع سوالات سایت ایران عرضه) !!

- (۱) عقلی است با یک مقدمه تجربی
(۲) تجربی است با یک مقدمه عقلی
(۳) تجربی است با دو مقدمه عقلی
(۴) عقلی است با دو مقدمه تجربی

◀ زبان و ادبیات فارسی

۶- اگر جمله «خاکستر خانه او زیاد است» به مفهوم «او مهمان نواز است» باشد، کدام صفت ادبی به کار برده است؟

- (۱) مجاز
(۲) کنایه
(۳) تشبیه
(۴) استعاره

❑ پاسخ سایت ایران عرضه: گزینه ۲ ➡ زیاد شدن خاکستر خانه کنایه از روشن بودن اجاق خانه میباشد که این خود نشان

از مهمان نوازی دارد.

۷- با توجه به بیت زیر نقش «سهیل» به ترتیب کدام است؟

- هر شب بگرام به یمین تا تو بی آی
زیرا که سهیلی و سهیل از یمین آید
(۱) مسند - مسند
(۲) فاعل - مسند

(۴) مسند - فاعل

(۳) مسند الیه - مسند الیه

۸- به کار بردن کدام کلمه در نگارش فارسی درست است؟

(۱) اولی تر (۲) افضل تر (۳) اعلی تر (۴) اعلم تر

۹- در کدام گزینه غلط املایی وجود دارد؟ ایران عرضه

(۱) سایر علل بر ایشان طار می شود (۲) نیکبختی به امتثال او منوت باشد

(۳) هرگونه زلزله از ایشان پدید آمد (۴) زفتی به جای خویشتن، انصافی بزرگ باشد

۱۰- در بیت زیر «گل» در همه نقش ها به جز به کار رفته است.

ای گل فروش! گل چه فروشی بجای سیم وز گل عزیزتر چه ستایی به سیم گل

(۱) مسندالیه (۲) مضاف الیه (۳) مفعول (۴) متمم

آشنایی با قوانین و مقررات اداری

۱۱- چند روز مرخصی کاری با حقوق و مزایا در سال به کارمندان دستگاه های اجرایی تعلق می گیرد؟

(۱) ۲۰ روز (۲) ۲۵ روز (۳) ۱۵ روز (۴) ۳۰ روز

پاسخ سایت ایران عرضه: گزینه ۴ ← بر اساس ماده ۸۴ قوانین و مقررات اداری داریم: کارمندان دستگاه های اجرایی

سالانه سی روز حق مرخصی کاری با استفاده از حقوق و مزایای مربوط را دارند. حداکثر نیمی از مرخصی کارمندان در هر سال قابل ذخیره شدن است.

۱۲- مسئولیتی است که از لحاظ سلسله مراتب به طور مستقیم مسئولیت سرپرستی و ارجاع کار به ارزشیابی شونده را دارد و از وی گزارش دریافت می کند.

(۱) ارزشیابی کننده (۲) مدیر بلافصل (۳) تایید کننده (۴) گزینه الف و ب

۱۳- کارمندانی که به صورت غیر منظم و بر حسب نوبت به صورت کشیک یا عناوین مشابه آن در هر یک حالت های زمانی عهده دار انجام مسئولیت های محوله باشند

(۱) مشمول پرداخت فوق العاده نوبت کاری می شوند

(۲) با رعایت مقررات مربوط از فوق العاده اضافه کار ساعتی برخوردار خواهد بود

(۳) مشمول پرداخت فوق العاده نوبت کاری می شوند

(۴) گزینه ۱ و ۲

۱۴- کارمندان دستگاه های اجرایی می توانند در طول خدمت خود با موافقت دستگاه ذیربط حداکثر از مرخصی بدون

حقوق استفاده نمایند و اگر مرخصی برای ادامه تحصیلات عالی باشد تا قابل افزایش خواهد بود.

(۱) یک سال - یک سال (۲) دو سال - یک سال

(۳) یک سال - دو سال (۴) سه سال - دو سال

۱۵- کدام گزینه غلط است؟

- (۱) پرداخت اضافه کاری بدون انجام کار اضافی وجاهت قانونی دارد
- (۲) پرداخت اضافه کاری بدون انجام کار اضافی به نظر مدیر سازمان بستگی دارد
- (۳) پرداخت اضافه کاری تنها در قبال انجام کار اضافی در ساعات اداری مجاز می باشد
- (۴) پرداخت اضافه کاری بدون انجام کار اضافی در حکم تصرف غیرقانونی وجوه و اموال عمومی است

◀ معلومات عمومی

۱۶- آیه شریفه «وَإِنْ يَكَادُ الَّذِينَ كَفَرُوا لَيُزْلِقُونَكَ بِأَبْصَارِهِمْ لَمَّا سَمِعُوا الذِّكْرَ وَيَقُولُونَ إِنَّهُ لَمَجْنُونٌ وَ مَا هُوَ إِلَّا ذِكْرٌ لِلْعَالَمِينَ»

در کدام سوره قرآن وجود دارد؟

- (۱) آل عمران (۲) طه (۳) بقره (۴) قلم

✗ پاسخ سایت ایران عرضه: گزینه ۴ «وَإِنْ يَكَادُ» یا آیه چشم زخم که همان آیات ۵۱ و ۵۲ سوره قلم میباشند، به آسیب رساندن کافران از طریق چشم زخم به پیامبر(ص) پس از شنیدن قرآن اشاره دارد. نزول این آیه را درباره خشم کفار از شنیدن آیات قرآن و نگاه غضب آلود آنان به پیامبر به قصد آسیب زدن به او دانسته اند.

۱۷- ماه های حرام کدامند؟

- (۱) محرم - رجب - ذیقعد - ذیحجه
(۲) محرم - شوال - رجب - ذیحجه
(۳) محرم - صفر - ذیقعد - ذیحجه
(۴) محرم - ذیقعد - ذیحجه - شوال

۱۸- کدام کشور عضو اتحادیه اروپا می باشد؟

- (۱) نروژ (۲) سوئیس (۳) انگلیس (۴) رومانی

۱۹- کانال سوئز کدام دریاها را به هم پیوند می دهد؟

- (۱) دریای مدیترانه و دریای سرخ
(۲) اقیانوس اطلس و اقیانوس کبیر
(۳) دریای سرخ و دریای مدیترانه
(۴) دریای سفید و اقیانوس اطلس

۲۰- کدام کارگردان بیشترین سیمرغ کارگردانی جشنواره فجر را دریافت کرده است؟

- (۱) مجید مجیدی (۲) داریوش مهرجویی
(۳) اصغر فرهادی (۴) ابراهیم حاتمی کیا

◀ زبان انگلیسی

Direction: Choose the word or phrase (1) , (2) , (3) or (4) that best completes each sentence.

21-This is where you leave your baggage and get your boarding card.

- 1) duty free 2) check-in desk

3) departures board

4) gate

✓ پاسخ سایت ایران عرضه: گزینه ۲ با توجه به مفهوم جمله این محل میز پذیرش در فرودگاه می باشد.

22- This glass lets us see in front of the car and protects us from the wind and the weather.

1) bonnet

2) mirrors

3) windscreen

4) bumper

23 -This is a soft bed cover. It has feathers inside.

1) duvet

2) blanket

3) carpet

4) wardrobe

24-I usually up at 6 a.m. when my alarm clock goes off.

1) brush

2) go

3) get

4) wake

25- This drink is made from fruit such as a orange.

1) ice cubes

2) milk

3) juice

4) soda

هوش و توانمندی عمومی

۲۶ مورد ۱: تبلیغ تلویزیونی اثربخشی کمی دارد. تعداد مارک های تجاری که در تلویزیون تبلیغ می شوند و بینندگان آگهی ممکن است آنها را به یاد آورند. در حال کاهش است.

مورد ۲: بینندگان تلویزیون آگهی هایی را که در ابتدا یا انتهای مجموعه ای از آگهی های متوالی پخش می شوند، بهتر از آگهی هایی که در وسط پخش می شوند، به یاد می آورند.

در کدامیک از گزینه های زیر مورد ۲ به موضوع اشاره شده در مورد ۱ کمک می کنند؟

(۱) زمان کلی اختصاص داده شده به مجموعه آگهی های متوالی در تلویزیون در حال کاهش است.

(۲) میانگین تعداد آگهی های تلویزیونی در مجموعه آگهی های متوالی در حال افزایش است.

(۳) یک بیننده تلویزیون در حال حاضر کمتر از نصف مارک های تجاری را که در آگهی ها دیده است را به یاد می آورد.

(۴) میانگین ساعاتی که مردم در هر روز صرف تماشای تلویزیون می کنند. در حال کاهش است.

✓ پاسخ سایت ایران عرضه: گزینه ۲ با توجه به اینکه بینندگان آگهی های اول و آخر را به یاد میسپارند میتوان گفت که

با افزایش تعداد آگهی ها بینندگان فقط تعداد اندکی را که در ابتدا و انتهای این بازه قرار دارند را تماشا میکنند و سایر مارک های آگهی دار در این میان در یاد بیننده باقی نمیمانند.

۲۷-کسی که به صورت پیاده، جاده کنار رودخانه را طی می کند. از سمت روبه رو که به تابلوی کنار جاده نزدیک می شود.

عدد «۲۱» را می بیند و در پشت آن عدد ۲۳ را. و نتیجه می گیرد که تابلوی بعدی که مسافت روی آن نوشته شده نشان

خواهد داد که او در نیمه راه است ولی تابلوی مسافتی که یک مایل بعد نصب شده، از سمت روبه رو عدد «۲۰» و از سمت

پشت عدد «۲۴» را نشان می دهد. کدام یک از گزینه های زیر، در صورت صحیح بودن علت اختلاف تشریح شده را توضیح

می دهد؟

۱) اعداد روی تابلوها بر اساس کیلومتر هستند نه مایل

۲) شخص پیاده رو یک تابلو بین این دو تابلو را ندیده است

۳) اعداد روی تابلو مسافت بعدی بر عکس نصب شده اند

۴) اعدادی که از رو به رو دیده می شود، نشان می دهند که چند مایل تا پایان جاده مانده، نه این که چند مایل از ابتدای جاده طی شده است.

۲۸- کدام مورد به تصویر عبارت رو به رو در آینه شبیه تر است؟ SUPERVISOR


۲) SUPERVISOR

۱) KSONPSEBIA

۴) SUPERVISOR

۳) ROSIVREPUZ

۲۹- کدام شکل تصویر را کامل می کند؟



۳۰- ضرب المثل «مشت نمونه خروار است» از لحاظ استدلال با کدام یک از ضرب المثل های زیر مشابه است؟

۲) شاهنامه آخرش خوش است

۱) قطره قطره جمع گردد وانگهی دریا شود

۴) با یک گل بهار نمی شود

۳) سالی که نکوست، از بهارش پیداست

فناوری اطلاعات

۳۱- کدام گزینه در مورد ایمیل صحیح میباشد؟

۱) هر فرد، یک آدرس ایمیل منحصر به فرد دارد.

۲) هر ایمیل، صرفاً یک گیرنده منحصر به فرد دارد.

۳) هر ایمیل، برای دسترسی یک نفر کاربر منحصر به فرد ساخته می شود.

۴) هر ایمیل صرفاً یک فرستنده منحصر به فرد دارد.

✓ پاسخ سایت ایران عرضه: گزینه ۴ هر فرد میتواند چندین آدرس ایمیل داشته باشد ولی هر آدرس ایمیل منحصر به

یک نفر است. همچنین هر ایمیل میتواند به چندین گیرنده ارسال شود. با اشتراک گذاری آدرس و رمز ایمیل میتوان امکان دسترسی چندین کاربر را به ایمیل فراهم ساخت. هر ایمیل که برای گیرنده ارسال میشود در قسمت آدرس فرستنده فقط یک آدرس وجود دارد لذا فرستنده هر ایمیل منحصر به فرد است.

۳۲- برای پاسخگویی به ایمیل دریافت شده از گزینه استفاده می کنیم.

۴) send

۳) forward

۲) delete

۱) reply

۳۳- برای کپی گرفتن از فرمت نوشتاری یک متن در نرم افزار ورد، علاوه بر ابزار format painter از کدام کلید میانبر می توان استفاده نمود؟

Alt+C (۱)

Ctrl+Alt+C (۲)

Ctrl+C (۳)

Ctrl+Shift+C (۴)

۳۴- در نرم افزار ورد اگر بخواهیم مثلی را در اطراف یک عکس قرار دهیم نحوه چیدمان عکس باید کدام یک از گزینه های زیر باشد؟

in front of text (۱)

through (۲)

behind text (۳)

in line with text (۴)

۳۵- تب (سربرگ) mailings برای ارتباط کدام نرم افزار با مجموعه ای از اطلاعات از پیش ثبت شده می باشد؟

excel نرم افزار (۱)

powerpoint نرم افزار (۲)

word نرم افزار (۳)

access نرم افزار (۴)

راهنمایی: سوالات معارف اسلامی ویژه مسلمانان اهل تسنن در برگه ای جداگانه ارائه شده است. مسلمانان اهل تشیع از پاسخ دادن به سوالات این بخش خودداری کنند.

۱- عبارت «انسان موحد کسی است که تلاش می کند فقط خدا را بپرستد و از اواطاعت نماید» کدام مرتبه ی توحید را بیان می کند؟

عملی (۱)

افعالی (۴)

نظری (۳)

ذاتی (۲)

❑ پاسخ سایت ایران عرضه: گزینه ۱ ➡ انسان موحد یا همان انسانی که خداوند را به عنوان تنها خالق جهان پذیرفته است و ایمان دارد که او پروردگار هستی است، رفتاری متناسب با این اعتقاد خواهد داشت و جهت زندگی خود را خدا قرار خواهد داد چنین انسانی در مسیر «توحید عملی» حرکت می کند. و همانطور که میدانیم توحید عملی یعنی خود را در عمل یگانه و یک جهت و در جهت ذات یگانه ساختن.

۲- همبستگی اجتماعی و نظارت همگانی که دو وظیفه از وظایف «هم زیستی با دیگران» است به ترتیب، از دقت در آیه ی و مفهوم می گردد.

(۱) «واذکروا نعمه الله علیکم» - «ولتکن منکم امه یدعون الی الخیر»

(۲) «واعتصموا بحبل الله جمیعاً» - «و یامرون بالمعروف و ینهون عن المنکر»

(۳) «واعتصموا بحبل الله جمیعاً» - «ولتکن منکم امه یدعون الی الخیر»

(۴) «واذکروا نعمه الله علیکم» - «و یامرون بالمعروف و ینهون عن المنکر»

۳- آیه ی ۹ سوره ی مبارکه اسرا «إِنَّ هَذَا الْقُرْآنَ یَهْدِی لِلَّتِی هِیَ أَقْوَمُ وَبِشَرِّ الْمُؤْمِنِیْنَ الَّذِیْنَ یَعْمَلُونَ الصَّالِحَاتِ أَنَّ لَهُمْ أَجْرًا کَبِیرًا» در بر گیرنده ی کدام نیاز از نیاز های بنیادین انسان است؟

- (۱) نیاز به رشد و بالندگی
(۲) نیاز به برنامه ی زندگی
(۳) نیاز به آگاهی از آینده
(۴) نیاز به امنیت خاطر و شادکامی
۴- «خلقت محکم و استوار در نظام آفرینش» که حاکی از وجود پدید آور «مدیر و حکیم» است از دقت در کدام آیه مفهوم می گردد؟

- (۱) «ما تری فی خلق الرحمن من تفاوت فارجع البصر هل تری من فطور»
(۲) «هو الذی جعل الشمس ضیاء و القمر نورا و قدره منازل لتعلموا عدد السنین»
(۳) «ان فی خلق السماوات و الارض و اختلاف اللیل و النهار لآیات لا ولی الالباب»
(۴) «و تری الجبال تحسبها جامده و هی تمر مر الحساب صنع الله الذی اتقن کل شیء»
۵- گرایشی که عموم تلاش های انسان را تحت تاثیر خود قرار می دهد، میل به است که پاسخ گوی آن است و نشانی بر خداوند می باشد.

- (۱) بقا و جاودانگی - رستاخیز - حکمت
(۲) کمالات بی نهایت - رستاخیز - عدل
(۳) بقا و جاودانگی - حکیمانه بودن خلقت - حکمت
(۴) کمالات بی نهایت - عادلانه بودن خلقت - عدل

❖ فصل چهارم: اصل سوالات آزمون استخدامی وزارت بهداشت ۱۴۰۲

با پاسخنامه تشریحی

❖ فناوری اطلاعات مهارت های هفتگانه (ICDL)

۱- کدام یک از ترکیب کلیدهای زیر، اولین کلمه بعد از مکان نما را در نرم افزار word پاک می‌کند؟

Ctrl+ Shift+ Back Space (۲)

Ctrl+ Shift+ Del (۱)

Ctrl+ Back Space (۴)

Ctrl+ Del (۳)

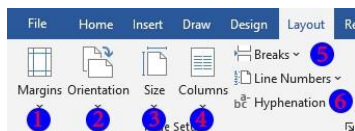
❑ پاسخ سایت ایران عرضه: گزینه ۳ ⇐ با نگه داشتن کلید Ctrl هنگام کار با نرم افزار Word تاثیری که کلید های پاکسازی از جمله delete و backspace و همچنین کلید های جهت دارند بر روی یک کلمه کامل اعمال میشود. لذا برای پاک کردن کلمه بعد از مکان نما کافی است دکمه ctrl را نگه داشته و کلید Del را فشار دهیم. از ترکیب Ctrl + backspace برای پاک کردن کلمه قبل از مکان نما استفاده میشود.

۲- ترکیب کلیدهای Ctrl+ y یا Redo چه عملی را در نرم افزار word انجام می‌دهد؟

(۱) بازگرداندن آخرین عملیات لغو شده (۲) لغو آخرین عملیات انجام شده

(۳) Paste کردن اطلاعات کپی گرفته شده (۴) کپی گرفتن از بخش انتخاب شده متن

۳- در نرم افزار word، برای تنظیم حاشیه‌های یک صفحه، از کدام بخش روبرو استفاده می‌شود؟



(۱) بخش ۱ (۲) بخش ۳ (۳) بخش ۴ (۴) بخش ۶

۴- گزینه Save As در منوی نرم افزار word چه کاری انجام می‌دهد؟

(۱) ذخیره اتوماتیک فایل

(۲) ذخیره کردن فایلی که تاکنون روی حافظه سیستم ذخیره نشده است

(۳) ذخیره کردن فایلی که باز است با نام دیگر روی حافظه سیستم

(۴) باز کردن فایل مورد نظر در word

۵- برای انتخاب متوالی آیکن‌ها در ویندوز، هنگام کلیک کردن چه کلیدی را پایین نگه می‌داریم؟

Tab (۴)

Shift (۳)

Ctrl (۲)

Alt (۱)

❖ زبان و ادبیات فارسی

۶- در این بیت چه صنعت بدیعی دیده می‌شود؟

اگر بشنود نام افراسیاب

شود کوه آهن چو دریای آب

(۱) اغراق (۲) ایهام (۳) التفات (۴) تلمیح

❑ پاسخ سایت ایران عرضه: گزینه ۱ ➡ در بیت ذکر شده در صورت سوال از آرایه اغراق استفاده شده است. در این بیت ذوب شدن کوه آهن و تبدیل شدن آن به دریای مواد مذاب و روان همچون آب تحت تاثیر شنیدن نام افراسیاب و ترسی است که این نام در دل کوه انداخته است. لذا این مورد نشان دهنده اغراق و بزرگنمایی میباشد.

۷- شاهنامه فردوسی در کدام قالب شعری سروده شده است؟

(۱) قطعه (۲) قصیده (۳) ترکیب بند (۴) مثنوی

۸- کدام یک وزن مثنوی معنوی است؟

(۱) فعولن فعولن فعولن فعل (۲) مستفعلن فاعلن مستفعلن فاعلن

(۳) فاعلاتن فاعلاتن فاعلن (۴) فاعلاتن مفاعلهن فاعلن

۹- در این شعر چه صنعت بیانی دیده می‌شود؟

قاصدک! از چه خبر آورده؟/ وز کجا؟ که از خبر آوردی؟/ خوش خبر باشی اما، اما/ گرد بام و در ما بی ثمر می‌گردد

(۱) تشبیه (۲) تشخیص (۳) استعاره (۴) کنایه

۱۰- در قالب «قطعه» قافیه به چه شکل است؟

(۱) چند بیت با قوافی یکسان بیابد و سپس یک بیت عیناً تکرار شود.

(۲) مصرع اول بیت اول با همه مصرع‌های دوم هم قافیه باشد.

(۳) فقط مصرع‌های دوم با هم هم قافیه‌اند. مصرع‌های اول قافیه ندارند.

(۴) هر بیت قافیه جداگانه دارد. مصرع اول و دوم آن با هم هم قافیه‌اند.

➤ معارف اسلامی

۱۱- منظور از مارقین در تاریخ اسلام چه کسانی هستند؟

(۱) مرتدان زمان پیامبر (۲) دشمنان حضرت علی (ع)

(۳) خوارج (۴) مشرکان معاند در صدر اسلام

❑ پاسخ سایت ایران عرضه: گزینه ۳ ➡ مارقین (کسانی که از جمع مسلمانان بیرون رفتن) لقب «خوارج» است که پس از جنگ صفین با شعار «لا حُکَمَ إِلَّا لِلَّهِ» بر علیه امام علی (ع) شوریدند. این گروه اولین بار در پیشگویی پیامبر اکرم (صلی الله علیه و آله) در مورد آنان، به این نام نامیده شدند. امام علی (ع) در آغاز از در مسالمت و مدارا با آنان برخورد کرد، اما سرانجام مجبور گشت با این گروه بجنگد و شکست سختی به آنها متحمل کند. از این جنگ در تاریخ اسلام با عنوان «جنگ نهروان» یاد میشود که در سال ۳۸ هجری روی داد و چهار هزار نفر از خوارج در آن کشته شدند.

۱۲- کدام یک از کارگزاران دولت علوی، هم از توان مدیریت بالا و هم مراتب بالای ایمان برخوردار بود؟

- (۱) کمیل بن زیاد (۲) مالک اشتر نخعی (۳) میثم تمار (۴) حجر بن عدی

۱۳- قرآن کریم کدام شخصیت را که در بدترین شرایط رشد معنوی قرار داشت، ضرب المثل ایمان معرفی می‌کند؟

- (۱) همسر ابولهب (۲) همسر لوط (۳) همسر فرعون (۴) همسر نوح

۱۴- در مورد احکام نماز کدام گزینه نادرست است؟

- (۱) در صورت فراموشی یکی از ارکان نماز، نماز باطل است
(۲) در قرائت نماز اگر حمد یا سوره یا یکی از آنها فراموش شود و شخص به رکوع برود نماز صحیح است
(۳) هرگاه انسان وضو داشته و شک کند باطل شده یا نه، بنا می‌گذارد که وضوی او باقی است
(۴) اگر قنوت نماز عمداً ترک شود نماز باطل است

۱۵- منظور از عصمت معصومین (ع) چیست؟

- (۱) آنان نمی‌توانند گناه و معصیتی بکنند
(۲) هیچ گناه و معصیتی از آنان سر نمی‌زند
(۳) شرایط غیرا اختیاری الهی که مانع گناه آنان می‌شود
(۴) آنان خود را از گناهان بزرگ حفظ می‌کنند

عمومی - زبان انگلیسی

Direction: choose the word or phrase (1) , (2) , (3) or (4) that best completes each sentence.

16- They could hardly how grateful they felt

- 1) expresses 2) express 3) expressed 4) expressive

۱۶- آنها به سختی می‌توانستند چقدر سپاسگزار هستند.

- (۱) بیان کنند (۲) بیان کنند (۳) بیان کردند (۴) بیانگر

☑ پاسخ سایت ایران عرضه: گزینه ۲ (بعد از could فعل در زمان حال ساده می‌آید و در ضمن همراه could نمی‌توانیم فعل کمکی دیگری بیاوریم. گزینه یکپارچه که صفت است و چون باید در جای خالی فعل بیاید بنابراین گزینه ۴ درست نیست. گزینه زیرساخت گذشته ساده است و بنابراین درست نیست. گزینه های ۱ و ۲ هر دو حال ساده هستند اما چون گزینه ۱، s گرفته است و فاعل ما سوم شخص مفرد نیست بنابراین گزینه ۲ درست خواهد بود)

17- The word 'predict' means to say that something will happen

- 1) never 2) in the past 3) in the future 4) many years ago

18- The prefix re- in words such as reaction and revision means

- 1) again 2) before 3) against 4) together

19- The verb form of the word "familiar" is

- 1) familiar 2) familiarity 3) familiarly 4) familiarize

20- The part of speech of the word "microscope" is a/ an

- 1) verb 2) adjective 3) noun 4) adverb

◀ اطلاعات عمومی، دانش اجتماعی و حقوق اساسی

۲۱- قانون اساسی جمهوری اسلامی ایران مصوب سال ۱۳۶۸ دارای چند فصل و چند اصل قانونی می‌باشد؟

(۱) چهارده فصل و یک صد و هفتاد و پنج اصل قانونی

(۲) دوازده فصل و یک صد و هفتاد اصل قانونی

(۳) چهارده فصل و یک صد و هفتاد و هفت اصل قانونی

(۴) دوازده فصل و یک صد و هفتاد و پنج اصل قانونی

✖ پاسخ سایت ایران عرضه: گزینه ۳ ➡ قانون اساسی جمهوری اسلامی ایران در آبان ۱۳۵۸ توسط مجلس خبرگان قانون

اساسی ابتدا در ۱۷۵ اصل و سپس در ۱۷۷ اصل تألیف شد. در سال ۱۳۶۸ پس از حکم روح الله خمینی به علی خامنه ای رئیس جمهور وقت، تغییراتی در آن داده شد. بازنگری قانون اساسی در تاریخ ۶ مرداد ۱۳۶۸، متعاقب همه پرسی به تصویب رسید. قانون اساسی مصوب سال ۱۳۶۸، شامل یکصد و هفتاد و هفت اصل می‌باشد که در چهارده فصل تقسیم بندی شده است.

۲۲- مطابق با اصل ۱۰۹ قانون اساسی جمهوری اسلامی ایران کدام یک از گزینه‌های ذیل از شرایط و صفات اصلی رهبری به

شمار نمی‌آیند؟

(۱) صلاحیت علمی لازم برای افتا در ابواب مختلف فقه

(۲) عدالت و تقوای لازم برای رهبری امت اسلام

(۳) بینش صحیح سیاسی و اجتماعی، تدبیر، شجاعت، مدیریت و قدرت کافی برای رهبری

(۴) ایرانی الاصل و تابعیت ایرانی

۲۳- معلم ثانی لقب کدام فیلسوف ایرانی است؟

(۱) شیخ بهاءالدین سهروردی

(۲) ابوسعید ابوالخیر

(۳) ابونصر فارابی

(۴) ابوعلی سینا

۲۴- علامت اختصاری سازمان جهانی خوار و بار کشاورزی کدام است؟

WTO (۴)

FAO (۳)

WHO (۲)

ILO (۱)

۲۵- شهر «هویزه» در کدام عملیات دفاع مقدس آزاد شد؟

- (۱) خیبر (۲) فتح المبین (۳) کربلای ۵ (۴) بیت المقدس

◀ هوش و توانمندی های ذهنی

۲۶- یک شرکت تولید کننده ماسک های بهداشتی، یک نوع ماسک درجه دو را که بسته ای ۴۰۰۰ واحد است، با ماسک درجه یک که بسته ۵۰۰۰ واحد است، به صورت مخلوط به فروش می رساند. اگر قیمت بسته مخلوط ۴۶۰۰ واحد باشد، در یک کارتون ۴۰ بسته ای از این ماسک ها، چند بسته ماسک درجه یک وجود دارد؟

- (۱) ۲۲ (۲) ۱۸ (۳) ۱۶ (۴) ۲۴

❑ پاسخ سایت ایران عرضه: گزینه ۴ ➡ در صورتی که بسته ترکیبی با قیمت 4600 باشد و یک کارتن حاوی 40 بسته باشد، قیمت هر کارتن برابر $40 \times 4600 = 184000$ می باشد. در یک کارتن ترکیبی به تعداد a بسته درجه یک و b بسته درجه دو وجود دارد که $a+b=40$ می باشد. لذا داریم: $5000b + 4000a = 184000$. از آنجایی که بسته ها ترکیبی می باشد a و b نمیتوانند صفر باشند. با استفاده از جایگذاری گزینه ها میتوان دید که اگر $b = 16$ باشد و $a=24$ معادله فوق صحیح می باشد. لذا تعداد بسته های درجه یک برابر ۲۴ بسته می باشد.

۲۷- در جمع آورده شده، حرف های متمایز، رقم های مختلف هستند. مقدار $C - D + E$ کدام است؟

- (۱) ۱ (۲) ۴ (۳) ۵ (۴) ۶
- A B C D
+ E C B
————
۲۰۱۰

۲۸- از بین اعداد مقابل، کدام عدد با سایرین متفاوت است؟

6978- 4527- 6639- 7144- 3315- 5693- 4352

- (۱) ۵۶۹۳ (۲) ۶۹۷۸ (۳) ۴۳۵۲ (۴) ۳۳۱۵

۲۹- کدام یک از استدلال های زیر صحیح است؟

- (۱) هیچ سگی گربه نیست. هر گربه ای گوشتخوار است، پس هیچ سگی گوشتخوار نیست.
(۲) همه کودکان بازیگوش هستند. همه دبستانی ها کودک هستند، پس بعضی از بازیگوش ها دبستانی هستند.
(۳) هر X ای، Y است. هیچ Z ای Y نیست. پس بعضی از X ها Z هستند.
(۴) هر X ای، Z است. هیچ X ای Y نیست. پس هیچ Z ای، Y نیست.

** گروهی از پزشکان متخصص قصد دارند، هفت شهر را که با شماره های A تا G مشخص می شوند در هفت روز متوالی یک هفته، از یکشنبه بازدید کنم و به (تنظیم توسط فروشگاه ایران عرضه) صورت رایگان بیماران نیازمند را ویزیت کنند. در این رابطه محدودیت های زیر وجود دارد.

- * در هیچ روزی دو شهر نمی تواند بازدید شود. * شهرهای A تا E نباید در روزهای متوالی بازدید شوند.
* شهرهای A و C باید در دو روز متوالی بازدید شوند. * شهر G باید در روز یکشنبه مورد بازدید واقع شود.

* شهر F باید در روز پنجشنبه بازدید شود. * شهر B باید در روز شنبه یا دوشنبه بازدید شود.

با توجه به مطالب فوق به ۳ سوال زیر پاسخ دهید:

*** با توجه به شرایط اعلام شده تقویم هفته به صورت زیر می باشد که از این تقویم در حل مسائل استفاده خواهیم کرد:

شنبه	یکشنبه	دوشنبه	سه شنبه	چهارشنبه	پنجشنبه	جمعه
	G				F	

۳۰- اگر روز سه شنبه از شهر D بازدید شود، کدام یک از برنامه های زیر باید درست باشد؟

(۱) شهر B- شنبه (۲) شهر E- چهارشنبه (۳) شهر C- جمعه (۴) شهر A- شنبه



❖ فصل پنجم: اصل سوالات آزمون استخدامی قوه قضاییه سال ۱۴۰۰ با

پاسخنامه تشریحی

◀ معارف اسلامی

۱- واجب کفایی در حوزه احکام شرعی یعنی چه؟ (منبع ایران عرضه)

(۱) در صورتی که بعضی از مکلفین به آن قیام کنند از دیگران ساقط می شود.

(۲) همه مکلفین موظف به انجام آن هستند و با عمل کردن برخی از دیگران ساقط نمی شود.

(۳) واجبی که تنها بر مردان تکلیف است و از زنان ساقط است.

(۴) واجبی که دارای مراتب عرضیه بوده و با انجام برخی از دیگران ساقط می شود.

❑ پاسخ سایت ایران عرضه: گزینه ۱ ◀ واجب کفایی گونه ای از واجبات دینی که مخاطب آن فرد مشخصی نیست و با انجام آن از سوی هر یک از مکلفین هدف شارع برآورده می شود و دیگر کسی تکلیفی ندارد. دفن میت، امر به معروف و نهی از منکر و جهاد جزو واجبات کفایی هستند.

۲- اساسی ترین پایه جهان بینی الهی را کدام اصل تشکیل می دهد؟

(۱) امامت (۲) توحید (۳) معاد (۴) نبوت

۳- منظور از ایمان راستین چیست؟

(۱) ایمان با تقوا (۲) ایمان بدون نیاز به توبه

(۳) ایمان توأم با عمل (۴) ایمان در کار علم

۴- روزه گرفتن در کدام روز حرام است؟

(۱) عید فطر (۲) عید قربان (۳) عید مبعث (۴) گزینه های الف و ب

۵- جمله ی «لا حول و لا قوه الا بالله» کدام مرتبه توحید را بیان می کند؟

(۱) علمی (۲) ذاتی (۳) افعالی (۴) صفاتی

◀ زبان انگلیسی - عمومی

Direction: Choose the word or phrase (1) , (2) , (3) or (4) that best completes each sentence.

6- It seems to me that they never gave a thought to future problems when the plans were being laid down five years ago. .

1) unbelievable 2) probable 3) unreasonable 4) impossible

✓ پاسخ سایت ایران عرضه: گزینه ۲ ← از لحاظ معنای باید مشکلات احتمالی را انتخاب کنیم.

7- Every substance has a melting point and a boiling point. The former is the temperature at which it changes from solid to liquid. The is the temperature at which it changes from liquid to gas.

- 1) later 2) latest 3) latter 4) last

8- You could being a little bit more friendly, couldn't you? .

- 1) afford 2) comfort 3) effort 4) support

9- She is very You just couldn't make her walk past under a ladder.

- 1) religious 2) deformed 3) supernatural 4) superstitious

10- Despite these overwhelmingly difficult trading conditions, the company has produced outstanding results.

- 1) therefore 2) accordingly 3) nevertheless 4) consequently

◀ اطلاعات عمومی، دانش اجتماعی، هوش و توانمندی های عمومی

۱۱- در چند رشته ورزشی، مدال طلای المپیک برای کشورمان به دست آمده است؟

- (۱) ۳ رشته (۲) ۴ رشته (۳) ۵ رشته (۴) ۷ رشته

✓ پاسخ سایت ایران عرضه: گزینه ۳ ← کشور ایران در مجموع دارای ۲۴ مدال طلا در طول دوره های المپیک در رشته های

کشتی (۱۱ طلا)، وزنه برداری (۹ طلا)، تکواندو (۲ طلا)، کاراته (۱ طلا) و تیراندازی (۱ طلا) می باشد.

۱۲- کودتای ۲۸ مرداد ۱۳۳۲ در دوران ریاست جمهوری چه فردی روی داد؟ (منبع سوالات سایت ایران عرضه)

- (۱) آیزنهاور (۲) ترومن (۳) کندی (۴) ویلسون

۱۳- علی اکبر دهخدا، سردبیر کدام روزنامه بود؟

- (۱) پرورش (۲) اختر (۳) نوبهار (۴) صور اسرافیل

۱۴- رئیس قوه قضاییه برای مدت سال منصوب می شود.

- (۱) ۵ سال (۲) ۴ سال (۳) ۶ سال (۴) ۳ سال

۱۵- حق یا حقوقی که برای اشخاص نسبت به اموال آنها صادر می شود، کدام است؟

- (۱) حق انتفاع (۲) حق ارتفاق به ملک غیر

- (۳) حق مالکیت (اعم از عین یا منفعت) (۴) همه موارد

❖ فصل ششم: اصل سوالات آزمون استخدامی ششمین فراگیر دستگاه های اجرایی دی

۱۳۹۷ مشترک با آموزش و پرورش و بانک ملی با پاسخنامه تشریحی

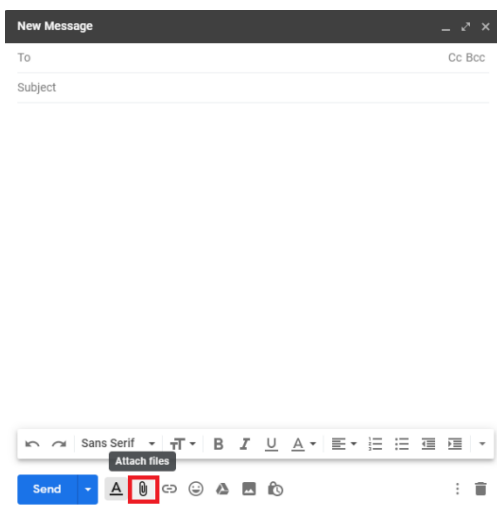
◀ فناوری اطلاعات و مهارت‌های هفتگانه I.C.D.L

۱- برای ارسال کردن فایل به همراه نامه کدام گزینه استفاده می شود؟ - طراحی شده توسط ایران عرضه -

attach file (۱) insert (۲) copy (۳) send (۴)

☑ پاسخ سایت ایران عرضه: گزینه ۱ ← هر فایلی که بر روی رایانه شما باشد را می‌توانید از طریق Email ارسال کنید. برای

این کار کافیست از منوی زیرین صفحه بر روی آیکون "سنجاق" یا "Attach File" کلیک کنید.



۲- کدام یک از موارد زیر یک سیستم عامل محسوب می شوند؟

Netscape (۱) Photoshop (۲) PowerPoint (۳) Windows XP (۴)

۳- نوار عنوان شامل کدام یک از موارد زیر نمی باشد؟

maximize (۱) print (۲) minimize (۳) close (۴)

۴- کدام یک از موارد زیر سند جدید ایجاد می کند؟

File/New (۱) Ctrl+N (۲) CTRL+S (۳) الف و ب (۴)

۵- جهت شماره گذاری صفحات کدام گزینه صحیح می باشد؟

insert/date and time (۱) view/tool (۲) insert/page numbers (۳) home/paragraph (۴)

◀ ریاضی و امار مقدماتی

۶- در یک توزیع فراوانی دامنه تغییر برابر با ۲۰ و تعداد طبقات برابر با ۵ است. فاصله طبقاتی چند است؟

۲ (۴)

۴ (۳)

۱۰ (۲)

۵ (۱)

✓ پاسخ سایت ایران عرضه: گزینه ۳ ⇨ فاصله طبقات از تقسیم دامن به تعداد طبقات با تقریبی اضافی به دست می آید.

$$c = \frac{\text{فاصله طبقات}}{\text{تعداد طبقات}} = \frac{\text{دامنه}}{\text{تعداد طبقات}} = \frac{R}{\text{تعداد طبقات}} = \frac{20}{4} = 5$$

۷- اگر ورودی یک تابع برابر ۱ بوده و ضابطه ضرب در ۲ باشد خروجی تابع چند است؟

۱ (۴)

۴ (۳)

۲ (۲)

صفر (۱)

۸- تابع $f(x) = x$ چگونه تابعی است؟

(۴) هیچ کدام

(۳) صفر

(۲) ثابت

(۱) همانی

۹- دو نقطه $A(1, -2)$ و $B(-3, 0)$ دو سر قطری از یک مربع اند. مساحت مربع کدام است؟

۱۰ (۴)

۸ (۳)

۱۵ (۲)

۲۰ (۱)

۱۰- اگر مجموعه جهانی اعداد طبیعی و A اعداد فرد باشند آنگاه A' کدام است؟

(۱) مجموعه اعداد فرد (۲) مجموعه اعداد زوج (۳) مجموعه اعداد طبیعی (۴) مجموعه اعداد صحیح

◀ زبان و ادبیات فارسی و آیین نگارش

۱۱- اثری ادبی و اجتماعی از زبان حیوانات که بوسیله ابوالمعالی نصر الله منشی از عربی به زبان فارسی ترجمه شده است؟

(۴) کلیله و دمنه

(۳) مرزبان نامه

(۲) چهار مقاله

(۱) مرصاد العباد

✓ پاسخ سایت ایران عرضه: گزینه ۴ ⇨ کلیله و دمنه کتابی است از اصل هندی که در دوران ساسانی به فارسی میانه ترجمه

شد. کلیله و دمنه کتابی پندآمیز است که در آن

حکایت‌های گوناگون (بیشتر از زبان حیوانات) نقل شده است. نام آن از نام دو شغال با نام‌های کلیله و دمنه گرفته شده است.

کتاب ترجمه کلیله و دمنه نوشته ابوالمعالی نصر الله منشی در قرن ششم ه ق و به زبان فارسی صورت گرفت؛ وی در نزد

بهرام شاه غزنوی

تقرب تام داشت و بخاطر این اختصاص کلیله و دمنه را برای بهرام شاه غزنوی ترجمه کرد و آنرا کلیله و دمنه بهرام شاهی

نام نهاد.

۱۲- وزیر الب ارسلان و نویسنده مشهور کتاب سیاست نامه؟

(۲) خواجه نظام الملک

(۱) عنصرالمعالی کیکاووس

(۴) امام محمد غزالی

(۳) ابوالفضل بیهقی

۱۳- املای کدام کلمه نادرست است؟

(۴) نقوی

(۳) کسرا

(۲) مصلا

(۱) رزیت

۱۴- نشانه ای که به معنی نقل و قول به کار می رود؟

(۱) سه نقطه (۲) دو نقطه (۳) نقطه ویرگول (۴) خط فاصله

۱۵- در نگارش عموماً با رقم نوشته می شود؟

(۱) اعداد خاص (۲) اعداد ترتیبی (۳) اعداد یک رقمی (۴) اعداد آغاز جمله

◀ معارف اسلامی

۱۶- اگر از فرهنگ فطر پسند اسلام به ترتیب جویای «علت» و «ره آورد» پرورش روحیه عبودیت و یکتا پرستی باشیم، کدام

گزینه وافی به این مقصود است؟

(۱) توحید - تامین مصالح جامعه (۲) ایمان - تامین مصالح جامعه

(۳) اخلاص - فضایل اخلاقی (۴) اسلام - فضایل اخلاقی

❑ پاسخ سایت ایران عرضه: گزینه ۳ ← یکی از شرط های پذیرفته شدن نماز، اخلاص و دوری از انگیزه های مادی (جلب نظر

دیگران، نفع مادی و یا ...) می باشد. مقصود از اخلاص این است که انگیزه های عبادت و پرستش خدا فقط انجام تکالیف الهی، یا بالاتر از آن شایستگی ذات او برای عبادت باشد. عنصر اخلاص در آدمی باعث پرورش روحیه عبودیت به عنوان یک صفت متعالی می گردد و این روحیه مبدأ بسیاری از فضایل اخلاقی است.

۱۷- مولود مبارک استواری قوانین واپسین دین الهی بر ساختار وجودی و فطرت انسانی چیست و مصداقی از عوامل تاثیر گذار

بر آن کدام است؟

(۱) عدم تحریف قرآن کریم - مفتوح بودن باب اجتهاد

(۲) عدم تحریف قرآن کریم - پیروی از قواعد ثابت فقهی نفی ضرر و نفی حرج

(۳) جاودانگی دین اسلام - اراده الهی و اهتمام پیامبر (ص)

(۴) جاودانگی دین اسلام - ثبات قدم مسلمانان پس از رحلت پیامبر (ص) در اعتقاد و عمل

۱۸- آیه شریفه « وَابْتَغِ فِيمَا آتَاكَ اللَّهُ الدَّارَ الْآخِرَةَ وَلَا تَنْسَ نَصِيبَكَ مِنَ الدُّنْيَا وَأَحْسِنْ كَمَا أَحْسَنَ اللَّهُ إِلَيْكَ » مبین کدام معیار

تمدن اسلامی است و کدام روایت شریفه مفسران می باشد؟ (تالیف سایت ایران عرضه)

(۱) عدالت در امور مادی و معنوی - امیر مومنان (ع): « با دنیا آخرت کسب می شود »

(۲) عدالت در داوری - رسول خدا (ص): « هر کس به یک ذمی (اهل کتاب) آزاری برساند من دشمن او میشوم »

(۳) مدارا و همزیستی مسالمت آمیز - امیر مومنان (ع): « با دنیا آخرت کسب میشود »

(۴) حق محوری و مبارزه با باطل - رسول خدا (ص): « هر کس به یک ذمی (اهل کتاب) آزاری برساند من دشمن او میشوم »

۱۹- زمینه ساز ظهور "سکولاریسم" و "راهکار برون رفت و رهایی از قیود بندگی نفس اماره و شیطان" به ترتیب در کدام گزاره

مشهود است؟

(۱) تفاسیر ناصواب از کتاب مقدس مسیحیان - تبعیت از هدایت تشریعی برای تامین سعادت دنیا و عقبی

- ۲) انتفاء مفاهیم ماوراء طبیعی از روی ناآگاهی - استمداد از حجت درون توام با تزکیه نفس برای برقراری عدالت و انصاف
- ۳) تفاسیر ناصواب از کتاب مقدس مسیحیان - استمداد از حجت درون توام با تزکیه نفس برای برقراری عدالت و انصاف
- ۴) انتفاء مفاهیم ماوراء طبیعی از روی ناآگاهی - تبعیت از هدایت تشریعی برای تامین سعادت دنیا و عقبی
- ۲۰- عاملی که "عطش حقیقت طلبی آدمی رو تا حدی فرو می نشاند" و "نقش مهمی در شکل گیری افعال و اعمال او دارد" با حفظ رتبه تقدم و تاخر کدام است؟

- ۱) پاسخ به پرسش هایی همچون آیا این دنیا کشتگاه آخرت است؟ - شناخت زاد سفر در مسیر بندگی
- ۲) سوال هایی از قبیل آیا زندگی با مرگ پایان می پذیرد یا پس از آن زندگی دیگری خواهد بود؟ - حیات دنیوی توام با ایمان و عمل صالح
- ۳) پاسخ به پرسش هایی همچون آیا این دنیا کشتگاه آخرت است؟ - آشنایی با حیات اخروی
- ۴) پاسخ به پرسش هایی همچون آیا این دنیا کشتگاه آخرت است؟ - شناخت غایت و هدف زندگی

زبان انگلیسی عمومی

Part A. Grammar and vocabulary

Direction: choose the number of the answer choice (1), (2), (3) or (4) that best completes the blank. Then mark it on your answer sheet.

21- After a long investigation into the crime, the police could that james had been killed by her neighbor, although for some unknown reasons they didn't publicize it for same time.

- 1) proclaim 2) deduce 3) express 4) announce

پاسخ سایت ایران عرضه: گزینه ۴ ➡ با توجه به ترجمه جمله "بعد از تحقیقات طولانی در ارتباط با صانحه جنایی پلیس میتواندست اعلام کند که جیمز توسط همسایه اش به قتل رسیده است اما تصمیم بر آن گرفتند که این مورد را عموماً اعلام نکنند." گزینه ۴ با معنی اعلام کردن گزینه صحیح میباشد.

22- It ——— late to the teacher that students could get the answer complicated question from others through their cell phones.

- 1) presumed 2) denoted
3) occurred 4) figured

23- Some present-day Arab nations were created during the twentieth cent did not practically exist as ——— states before that.

- 1) tenacious 2) advantageous

3) contiguous

4) autonomous

24- The new manager's inauguration speech was ——— critical of the management's performance.

1) desperately

2) bitterly

3) swiftly

4) vitally

Part B: Reading Comprehension

Directions: Read the following five short passages carefully and choose (1) , (2) , (3) , or (4) best fits each blank space. Then mark your answer.

Passages 1

Management's response to a predictable series of organizational and people crises the decisive factor in determining whether a firm dies early or goes on apparent. The situation may become particularly serious as a company goes from one did stage to the next. Organizations that get into trouble do not react correctly to the internal challenges create by the change. They fail to recognize the important occur in the organizational life cycle.

25- A manager's response to organizational and people crises become sensitive when

- 1) he fails to recognize the important crises
- 2) he makes a decision about such crises
- 3) his organization moves from one development phase to another
- 4) he reacts to the internal challenges created by the crises

◀ اطلاعات عمومی دانش اجتماعی و قانون اساسی

۲۶- غلظت خون چند برابر آب است؟

۸ (۴)

۷ (۳)

۶ (۲)

۵ (۱)

☑ پاسخ سایت ایران عرضه: گزینه ۲ ⇐

۲۷- اولین کشور از نظر ذخایر منابع گازی در جهان چه کشوری است؟

۴ (۴) روسیه

۳ (۳) قطر

۲ (۲) عربستان

۱ (۱) ایران

۲۸- قدیمی ترین نهاد منطقه ای در خاورمیانه، کدام است؟

۲ (۲) اتحادیه عرب

۱ (۱) اوپک

۴ (۴) سازمان همکاری اسلامی

۳ (۳) شورای همکاری خلیج فارس

۲۹- بلندترین گنبد جهان چه نام دارد؟

- (۱) گنبد سلطانیه در شهر خدابنده (زنجان)
(۲) گنبد قابوس در شهر گنبد
(۳) گنبد هارونیه در شهر توس
(۴) گنبد مسجد امام در شهر اصفهان

۳۰- "دروگر" به چه معناست؟

- (۱) چوب تراش (۲) مسگر (۳) خیاط (۴) آهنگر

هوش و استعداد تحصیلی

۳۱- مجموع سه عدد فرد متوالی ۶۳ است، نصف عدد بزرگتر کدام است؟

- (۱) ۲۳ (۲) ۱۱/۵ (۳) ۱۰/۵ (۴) ۱۱

☑ پاسخ سایت ایران عرضه: گزینه ۲ ⇐ چون سه عدد فرد متوالی مجموعش ۶۳ شده، پس این سه عدد باید اطراف ۲۰ باشند:

$$19 + 21 + 23 = 63$$

عدد بزرگتر ۲۳ هست. نصف ۲۳ برابر ۱۱/۵ بوده پس گزینه ۲ صحیح می باشد.

۳۲- کدام کلمه مناسبت کمتری با سه کلمه دیگر دارد؟

- (۱) ارابه (۲) اتوبوس (۳) کشتی (۴) هواپیما

۳۳- علی دو برابر محمد سن دارد. اگر ۷ سال دیگر سن محمد ۱/۵ برابر سن فعلی او شود سن کنونی علی چند سال است؟

- (۱) ۵۶ (۲) ۲۸ (۳) ۱۴ (۴) ۷

۳۴- در رشته عددی زیر یک نظم منطقی وجود دارد به جای علامت ؟ چه عددی می توان قرار داد؟

؟ و ۶۱ و ۱۹ و ۷ و ۱

- (۱) ۶۷ (۲) ۱۰۳ (۳) ۱۸۷ (۴) ۲۴۷

۳۵- اگر شعاع دایره ای بیست درصد افزایش یابد، مساحت دایره چند درصد افزایش می یابد؟

- (۱) ۴ (۲) ۲۰ (۳) ۴۴ (۴) ۴۰

❖ فصل هفتم: یازدهمین آزمون فراگیر دستگاه های اجرایی دی ۱۴۰۲

◀ معارف اسلامی

۱- مقدم شدن (ایاک) بر (نعبد) و (نستعین) چه نتیجه ای دارد؟

- (۱) توحید در ربوبیت
(۲) توحید عبادت و افعالی
(۳) عظمت عبادت خداوند
(۴) فضیلت عبادت به جماعت

❑ پاسخ سایت ایران عرضه: گزینه ۲ ➡ توحید در عبادت یعنی عبادت مخصوص خداست و جز او نباید کسی را به هیچ

عنوانی پرستید. در این آیه چنانچه مشاهده میشود تقدم مفعول بر فعل و فاعل نشان دهنده اهمیت آن میباشد: «تنها تو را میپرستیم و تنها از تو یاری می جوییم». در این آیه مراد از تو یا همان مفعول، خداوند متعال میباشد و با تقدم او بر فعل پرستیده شدن و یاری جستن، توحید وی در این اعمال را برداشت میکنیم.

۲- کدام گزینه زیر نظر به محور اصلی نظام تربیتی جهان دارد؟

- (۱) هدایت الهی
(۲) حاکمیت حق تعالی
(۳) ربوبیت خداوند
(۴) رحمت و رحمانیت خداوند

۳- کدام یک از گزینه های زیر به سه توحید اشاره دارد؟

توحید ذات، صفات و افعال

- (۱) ایاک نعبد
(۲) ایاک نستعین

- (۳) الحمد لله رب العالمین
(۴) مالک یوم الدین

۴- سرچشمه اصلی شرک و پایمال نمودن حقوق دیگران چیست؟ (تهیه شده توسط ایران عرضه)

- (۱) تکبر
(۲) حسد
(۳) طمع
(۴) غیبت

۵- در قرآن کریم از اتفاق با چه نامی تعبیر شده است؟ {ا یر ا ن ع ر ض ه}

- (۱) صدقه
(۲) قرض
(۳) فئ
(۴) اضعاف

◀ ادبیات فارسی

۶- مفهوم این بیت ناصر خسرو در کدام گزینه آمده است؟

بری دان از افعال چرخ برین را نشاید ز دانا نکوهش بری را

- (۱) از ناکامی ها و بدبختی ها گله نکن و آنها را برای دیگران بازگو نکن

- (۲) ناکامی و بدبختی خود را به دیگران و عوامل غیر موثر نسبت نده.

- (۳) افعال ناگوار چرخ و روزگار با رفتار و افعال ما ارتباط مستقیم دارد

- (۴) انسان دانا اثر رفتارهای خود را تاثر پذیر از رفتارهای روزگار نمی انگارد

❑ پاسخ سایت ایران عرضه: گزینه ۲ ➤ شاعر در این بیت شعر که معنی آن به صورت «آسمان روزگار را در انجام کارها پاک و مبرا بدان و شایسته نیست که انسان دانا عوامل غیر موثر در کاری نکوهش کند.» می باشد، به این موضوع اشاره دارد که ناکامی ها و بدبختی های هر فرد بسته به خود اوست و نباید دیگران و عوامل غیر موثر را دخیل بداند و آنها را نکوهش کند

۷- کدام گزینه معنی درستی از این عبارت گلستان سعدی است؟

پس هر یکی را حصّه معین کرد تا فتنه بنشست و نزاع برخاست.

(۱) پس برای هر کدام بهره ای مشخص کرد تا آشوب و جدال برطرف شود

(۲) اگرچه برای هرکدام بهره ای مشخص کرد، اما آشوب و جنگ برطرف نشد

(۳) پس برای هرکدام بهره ای مشخص کرد و آشوب و جنگ و جدال درونی شروع شد

(۴) پس برای هرکدام بهره ای مشخص کرد تا شاید اختلافات داخلی برطرف شود

۸- در کدام گزینه همه واژه ها به درستی معنی شده اند؟ (منبع ایران عرضه)

(۱) بنان: سرانگشت / سفله: بدسرشت / دستور: اجازه، وزیر

(۲) انگاره: طرح، نقشه / عوانی: پاسبان / چاپار: وسیله عبور از رودخانه

(۳) شهقه: علاقه مند / پلاس: پارچه کهنه / خیر خیر: بیهوده

(۴) تحیت: درود و سلام / خراج: مالیات / کنام: درخت میوه دار

۹- توضیحات کدام گزینه درست نیست؟

(۱) منظومه های حماسه طبیعی و ملی از نتایج افکار و عواطف و قرایح یک ملت است.

(۲) در منظومه های حماسی مصنوع، سرو کار شاعر با داستان های پهلوانی مدوّن نیست.

(۳) کمدی الهی دانه از منظومه های مشهور غنایی بشر است.

(۴) شعر حماسی در دوران طفولیت جوامع به وجود می آید و شعر غنایی در دوران جوانی جوامع رشد می کند

۱۰- در مصراع «بسا شکسته بیابان که باغ خرم بود»، «الف» بسا چه نوع الفی است؟

(۱) الف اطلاق (۲) الف تزیین (۳) الف کثرت (۴) الف صفت فاعلی

➤ آشنایی با قوانین و مقررات اداری

۱۱- اضافه کار بر اساس کدام عامل پرداخت می گردد؟

(۱) حساسیت خدمات (۲) اهمیت خدمات

(۳) حجم و کیفیت خدمات (۴) همه موارد

❑ پاسخ سایت ایران عرضه: گزینه ۴ ← بر اساس تبصره ۱ ماده ۱ از بخش اضافه کار، حق التحقیق و ...، برای خدماتی که کارمندان در دستگاه های اجرایی در خارج از وقت اداری در محل کار معین ارائه میدهند، اضافه کار بر اساس عوامل زیر پرداخت میشود:

حساسیت خدمات - اهمیت خدمات - حجم و کیفیت خدمات - سرعت و دقت و برنامه ریزی و زمان بندی در انجام خدمات - مهارت و خبرگی کارمند برای انجام خدمات - خلاقیت و نوآوری در ارائه خدمات مربوط - تعامل و همکاری با سایر کارکنان در انجام کار گروهی.

۱۲- مشخصه ای که براساس آن شاخص های سنجش و ارزشیابی برای امتیازدهی به عملکرد تهیه می گردد کدام است؟

(۱) محور ارزشیابی (۲) تشویقات (۳) معیار (۴) شاخص

۱۳- دوره خدمت در پست های مدیریت حرفه ای چند ساله می باشد؟

(۱) دو (۲) سه (۳) چهار (۴) پنج

۱۴- ورود به خدمت و تعیین صلاحیت استخدامی افرادی که داوطلب استخدام در دستگاه های اجرایی می باشد بر چه

اساسی صورت می گیرد؟

(۱) مجوزهای صادره (۲) تشکیلات مصوب

(۳) رعایت مراتب شایستگی و برابری فرصت ها (۴) همه موارد

۱۵- بکارگیری کارمندان بازرخردی در دستگاه های اجرایی (تالیف توسط سایت ایران عرضه) !!

(۱) ممنوع (۲) بلامانع

(۳) براساس نظر مدیر صورت می گیرد (۴) بستگی به شرایط دارد

◀ معلومات عمومی

۱۶- مطابق اصل ۴۵ قانون اساسی انفال و ثروت های عمومی در اختیار کدام یک از گزینه های زیر می باشد؟ (تهیه شده

توسط ایران عرضه)

(۱) رهبری (۲) ریاست جمهوری (۳) حکومت اسلامی (۴) مجلس

❑ پاسخ سایت ایران عرضه: گزینه ۳ ← بر اساس اصل ۴۵ قانون اساسی جمهوری اسلامی ایران، انفال و ثروت های عمومی

از قبیل زمین های موات یا رها شده، معادن، دریاها، دریاچه ها، رودخانه ها و سایر آب های عمومی، کوه ها، دره ها، جنگل ها، نیزارها، بیشه های طبیعی، مراتعی که حریم نیست، ارث بدون وارث، و اموال مجهول المالک و اموال عمومی که از غاصبین مسترد میشود. در اختیار حکومت اسلامی است تا بر طبق مصالح عامه نسبت به آنها عمل نماید، تفصیل و ترتیب استفاده از هر یک را قانون معین میکند.

۱۷- طبق اصل ۱۵ قانون اساسی، استفاده از زبان های محلی و قومی در مطبوعات و رسانه های گروهی و تدریس ادبیات

آنها در مدا.....

(۱) ممنوع است (۲) در کنار زبان فارسی، آزاد است

(۳) آزاد است (۴) در محدوده استان، آزاد است

۱۸- براساس قانون اساسی نشریات و مطبوعات در بیان مطالب آزادند مگر اینکه.....

(۱) محل مبانی اسلام یا حقوق عمومی باشند. (۲) نظم عمومی را مختل کند.

(۳) به مسئولین و سران ارشد تهمت بزنند. (۴) موجب تشویش اذهان عمومی شوند.

۱۹- دولت در چه صورتی می تواند از فردی سلب تابعیت کند؟

(۱) درخواست خود فرد (۲) تابعیت کشور دیگری درآید.

(۳) محل امنیت ملی باشد (۴) ۱ و ۲

۲۰- جلسات مجلس شورای اسلامی با حضور نمایندگان رسمیت می یابد.

(۱) دو سوم (۲) سه چهارم

(۳) نیمی از (۴) اکثریت قریب به اتفاق

◀ زبان انگلیسی

Vocabulary

21- Of course, even in developed countries, it is not unusual to see wage and job..... against women.

1) separation 2) discrimination 3) diversity 4) collision

۵۶. البته حتی در کشورهای توسعه یافته هم، ممکن است (چیز غیرمعمولی نیست که) بین حقوق و شغل علیه زنان را ببینید.

(۱) جداسازی (۲) تبعیض (۳) تنوع (۴) برخورد

☑ پاسخ سایت ایران عرضه: گزینه ۲ ⇐ (چون در اینجا نویسنده می خواهد از یک چیز غیرعادی و غیرمعمول صحبت کند بنابراین گزینه درست discrimination به معنای تبعیض است که نشان دهنده تبعیض در حقوق و دستمزد زنان نسبت به مردان است)

22- The 1990s have seen a general in aid to poor countries, largely because of fiscal pressures in many rich countries.

1) decline 2) consumption 3) contingency 4) conviction

23- Owing to the shortages in some building materials and labor.....in some trades, the building industry began to make more use of prefabricated.

1) scarcity 2) components 3) cavity 4) immunity

24- I was greatly impressed by the way the judge conducted the trial..... when it came to summing up the case to the jury.

- 1) sufficiently 2) effectively 3) particularly 4) respective

25- Asthma is a common..... in which the airways lining the lung become inflamed.

- 1) disease 2) diagnosis 3) patient 4) recovery

هوش و توانمندی عمومی

۲۶- این عبارت هارا در نظر بگیرید:

(الف) در بیشتر کشورهای صنعتی نوجوانان زیر ۲۰ سال وارد بازار کار نمی شوند

(ب) در واقع جامعه شناسان معتقدند که پیشرفت یک کشور را میتوان در قالب میانگین سن ورود به بازار کار اندازه گیری کرد

(ج) مطالعات روانشناختی نشان میدهد که اضطراب های مختلف نوجوانان در کشورهای صنعتی بیشتر مشاهده می شود.

(د) با این وجود اشتباه است که تصور شود نوجوانان که کار میکنند کمتر احتمال دارد از کارشان لذت ببرند

بهترین توصیف متن در کدام گزینه زیر آمده است؟

(۱) کوششی است برای نشان دادن اینکه جمله (الف) درست است

(۲) کوششی است برای نشان دادن اینکه جمله (ج) درست است

(۳) کوششی است برای نشان دادن اینکه جمله (د) درست است

(۴) هیچ کدام از موارد بالا درست نیست، زیرا هیچ تلاشی برای اثبات چیزی انجام نشده است

☑ پاسخ سایت ایران عرضه: گزینه ۴ ← جمله ۱ نشان دهنده سن ورود به بازار کار توسط نوجوانان و جمله ۲ نتیجه گیری

پیشرفت اقتصاد کشور بر پایه کاهش میانگین سن میباشد، که این مورد به تنهایی از جمله ۱ نتیجه نمیشود. در جمله ۳ به

اضطراب های مختلف دوران نوجوانی در کشور های صنعتی اشاره میشود اما هیچ اشاره ای به علت آن نشده است. در

جمله ۴ نیز گفته میشود که تصور اینکه نوجوانان فعال در بازار کار، از کاری که انجام میدهند لذت نمیبرند، اشتباه است. با

توجه به این موارد میتوان مشاهده کرد که تمامی جمله ها در حول موضوع نوجوانان و بازار کار و اقتصاد قرار دارند اما

ارتباط خاصی که نشان دهنده نتیجه گیری از یکدیگر باشند وجود ندارد. لذا گزینه ۴ صحیح میباشد.

۲۷- فرض کنید عبارات زیر درست باشند:

* لباس های شیک و مد روز نه بسیار روشن اند و نه بسیار تیره

* اگر فردی دارای لباس های بسیار روشن نباشد پس شخص خوش سلیقه ای است

اگر هر دو جمله درست باشند، کدام یک از جملات زیر باید درست باشند؟

(۱) اگر فردی شیک پوش باشد آن شخص لباسش تیره اما خوش سلیقه است

(۲) هیچ فرد خوش سلیقه ای تیره پوش نیست

(۳) شیک پوش ها نه خوش سلیقند نه تیره پوش

(۴) هر فرد شیک پوشی خوش سلیقه است اما تیره پوش نیست

۲۸- «در سال های اخیر در بنگاه های اقتصادی بخش های جدید و بسیار تخصصی متعددی به وجود آمده است. این

موضوع اثبات میکند که بنگاه های اقتصادی به روش های مناسب تری برای دستیابی به بازار علاقه زیادی دارند.»

کدام گزینه زیر به بهترین وجه یکی از مواد بیان نشده در عبارت بالا را توصیف می کند؟

(۱) نتیجه گیری: مدیران در جستجوی روش های جدید برای دسترسی به بازار هستند

(۲) نتیجه گیری: بنگاه های اقتصادی در درجه اول، اگر نگوئیم منحصر، برای خدمت به منافع صاحبان خود به وجود می

آیند

(۳) پیش فرض: قبل از ایجاد این بخش های جدید، بنگاه های اقتصادی در دستیابی به بازار موفق نبودند

(۴) پیش فرض: این بخش های جدید روی روش های مناسب و جدید دستیابی به بازار کار میکنند

برای پاسخ به دو پرسش بعدی به موقعیت فرضیه زیر توجه کنید:

یک دانشکده دارای هفت انجمن علمی ۱، ۲، ۳، ۴، ۵، ۶ و ۷ است. رئیس دانشکده باید کی گروه ۵ نفری را از بین

دانشجویان این هفت انجمن علمی انتخاب نماید. تا در یک کمیته تصمیم گیری مهم مشغول فعالیت علمی شوند. این پنج

نفر باید از انجمن های متفاوت انتخاب شوند. هر نوع ترکیب ۵ نفری را میتوان برگزید. مشروط بر اینکه اگر فردی از انجمن

علمی (۱) انتخاب شد، نباید عضوی از انجمن علمی (۵) در کمیته انتخاب شود. اما اگر فردی از انجمن علمی (۳) انتخاب

شد. باید عضوی از انجمن علمی (۵) در کمیته انتخاب شود و اگر کسی از انجمن علمی (۲) در کمیته قرار گرفت حتما

عضوی از انجمن علمی (۶) نیز باید در کمیته انتخاب شود.

۲۹- در زیر پنج ترکیب احتمالی از افراد انجمن ها که رئیس دانشکده باید برای آن کمیته علمی انتخاب کند وجود دارند.

کدام یک از آنها ترکیبی است که تمام شرایط ذکر شده در آن رعایت شده است؟

(۱) ۱، ۲، ۳، ۶، ۷ (۲) ۲، ۳، ۴، ۵، ۶

(۳) ۲، ۳، ۴، ۶، ۷ (۴) ۱، ۴، ۵، ۶، ۷

۳۰- فرض کنید رئیس دانشکده تصمیم گرفته است که هیچ کس را از انجمن علمی (۷) انتخاب نکند، در آن صورت کدام

انجمن علمی در کمیته نماینده ای نخواهد داشت؟

(۱) ۱ (۲) ۲ (۳) ۵ (۴) ۴

◀ فناوری اطلاعات و ICDL

۳۱- اصطلاح Attachment در هنگام کار کردن با سایت های مربوط به پست الکترونیک به چه معناست؟

(۱) پاسخ دادن به ایمیل های دریافت شده (۲) پیش نویس ایمیل هایی که قرار است ارسال شود

۳) ضمیمه کردن فایل به ایمیل ۴) ارسال یک ایمیل به صورت همزمان به چند نفر

✓ پاسخ سایت ایران عرضه: گزینه ۳ ⇨ اصطلاح attachment در کاربرد روزانه به معنی پیوست، الصاقیه و ضمیمه میباشد. در هنگام کار با مسائل مربوط به پست های الکترونیکی به فایل هایی که همراه با ایمیل به فرد گیرنده ارسال میشوند ضمیمه یا attachment گفته میشود.

۳۲- وقتی در نرم افزار ورد، تصویری را انتخاب کرده ایم با کدام گزینه میتوانیم بخشی از آن تصویر را برش بزنیم؟

۱) size ۲) crop ۳) color ۴) corrections

۳۳- کدامیک از انواع داده در اکسل مربوط به نمایش اعداد به صورت درصد می باشد؟

۱) Currency ۲) General ۳) Percentage ۴) Text

۳۴- کدامیک از توابع زیر در نرم افزار اکسل، مربوط به شمارش سلول های انتخاب شده و دارای یک شرایط خاص است؟

۱) Count ۲) Counta ۳) Countblank ۴) Countif

۳۵- کدامیک از نرم افزارهای زیر جزء بد افزارها نیستند؟

۱) Firewall ۲) Virus ۳) Trojan ۴) Worm